

INVESTICE DO ROZVOJE VZDĚLÁVÁNÍ

č. 6

název	Střední Evropa
anotace	V pracovních listech žáci poznávají střední Evropu a její státy. Testovou i zábavnou formou si prohlubují znalosti na dané téma. Součástí pracovního listu je i správné řešení.
očekávaný výstup	ZV – LMP Člověk a příroda – 2. stupeň Z – charakterizovat polohu, rozlohu, přírodní, kulturní, společenské, politické a hospodářské poměry vybraných světadílů, oceánů a vybraných států
druh učebního materiálu	Pracovní list
druh interaktivity	Aktivita
ročník	8.

Autorem materiálu a všech jeho částí, není-li uvedeno jinak, jsou:

A. Strádalová, Mgr. D. Nováková, M. Strádalová, M. Metlický.

Vytvořeno dne 11. 1. 2012.

Nový začátek (New start) CZ.1.07/1.4.00/21.1409

Tento projekt je spolufinancován Evropským sociálním fondem a státním rozpočtem České republiky.

STŘEDNÍ EVROPA – pracovní list

Jméno: _____

1. Napiš správně názvy států.

Ke státům střední Evropy patří i OKSEČ _____. Dále pak OKCEMĚN _____, OKSUOKAR _____, OKSRACÝVŠ _____, OKSLOP _____, OKSNJETŠNETCHIL _____, OKSNEVOLS _____, OKSRAĎAM _____.

2. Doplně do článku slova ze závorky. Potom si článek pozorně přečti.

V severní části střední Evropy převládají _____. Jižními oblastmi procházejí _____. Na Slovensku jsou nejvyšším pohořím _____. Střední Evropou protéká _____. V Alpách se nacházejí _____.

(Alpy, ledovcová jezera, Tatry, nížiny, Dunaj)

3. V EU jsou tyto státy. Správnou odpověď zakroužkuj.

- | | | |
|-------------------|-------------|-------------|
| • Polsko | • Německo | • Slovensko |
| • Lichtenštejnsko | • Rakousko | • Maďarsko |
| • Česko | • Švýcarsko | |

Autorem materiálu a všech jeho částí, není-li uvedeno jinak, jsou:

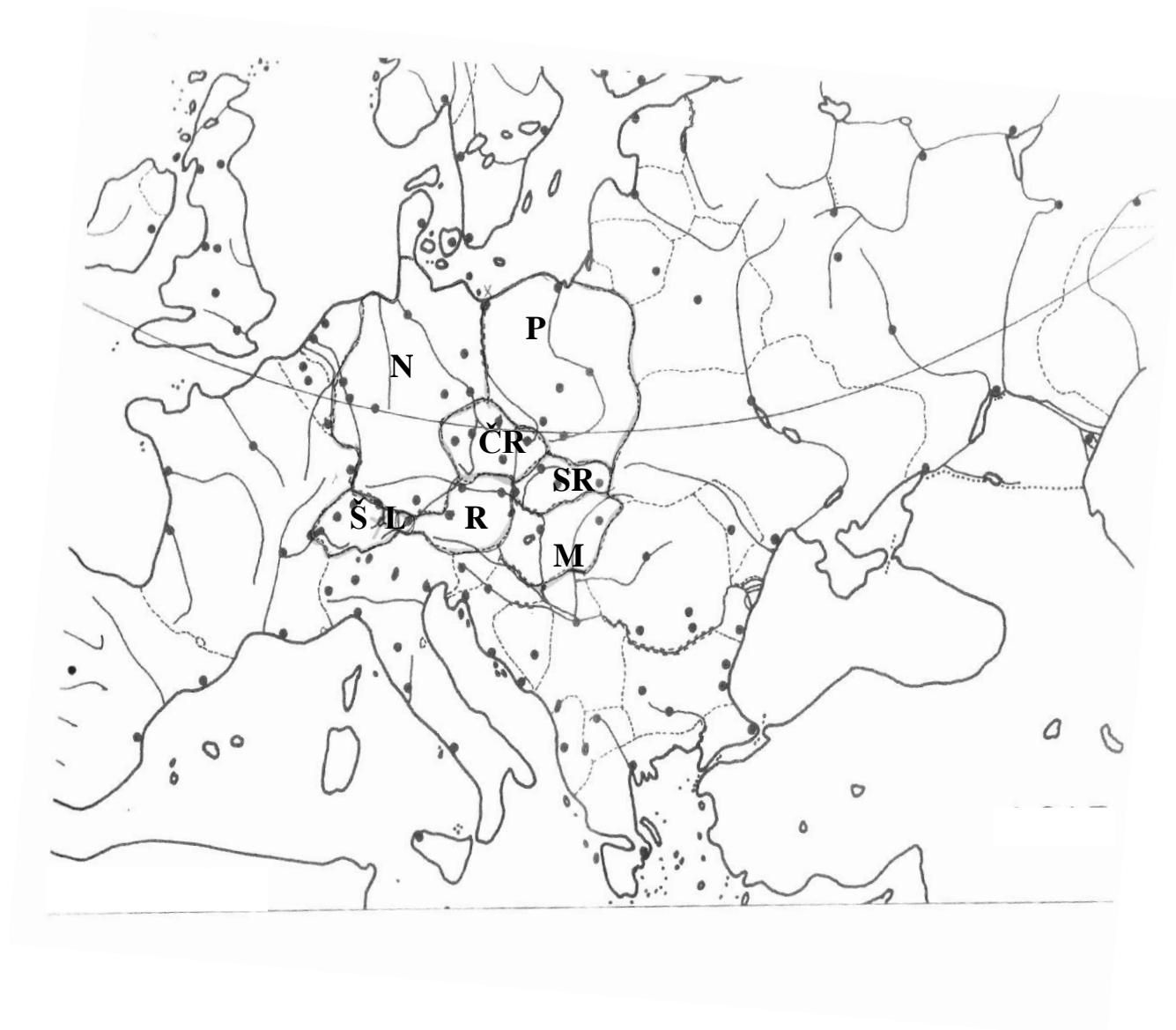
A. Strádalová, Mgr. D. Nováková, M. Strádalová, M. Metlický.

Vytvořeno dne 11. 1. 2012.

Nový začátek (New start) CZ.1.07/1.4.00/21.1409

Tento projekt je spolufinancován Evropským sociálním fondem a státním rozpočtem České republiky.

4. Červenou pastelkou obtáhni hranice států střední Evropy.



Nápověda - zkratky států ti pomůžou.

Autorem materiálu a všech jeho částí, není-li uvedeno jinak, jsou:

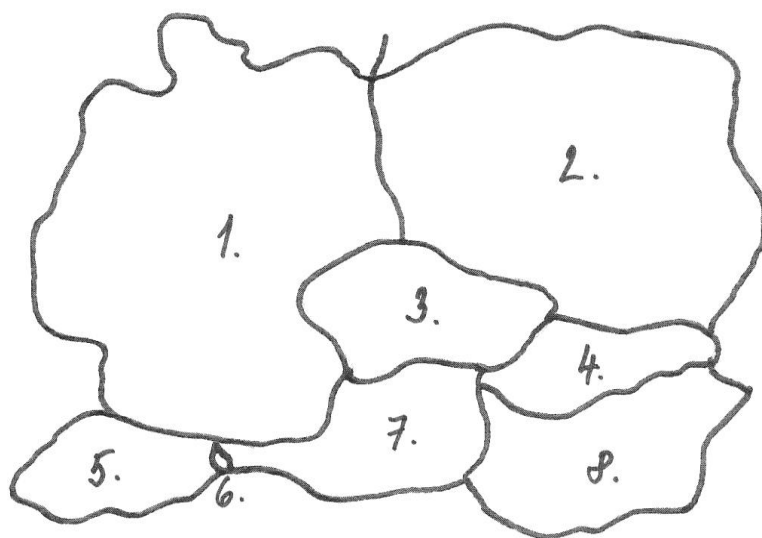
A. Strádalová, Mgr. D. Nováková, M. Strádalová, M. Metlický.

Vytvořeno dne 11. 1. 2012.

Nový začátek (New start) CZ.1.07/1.4.00/21.1409

Tento projekt je spolufinancován Evropským sociálním fondem a státním rozpočtem České republiky.

5. K číslům přiřaď názvy států střední Evropy.



1.

2.

3.

4.

5.

6.

7.

8.

Autorem materiálu a všech jeho částí, není-li uvedeno jinak, jsou:

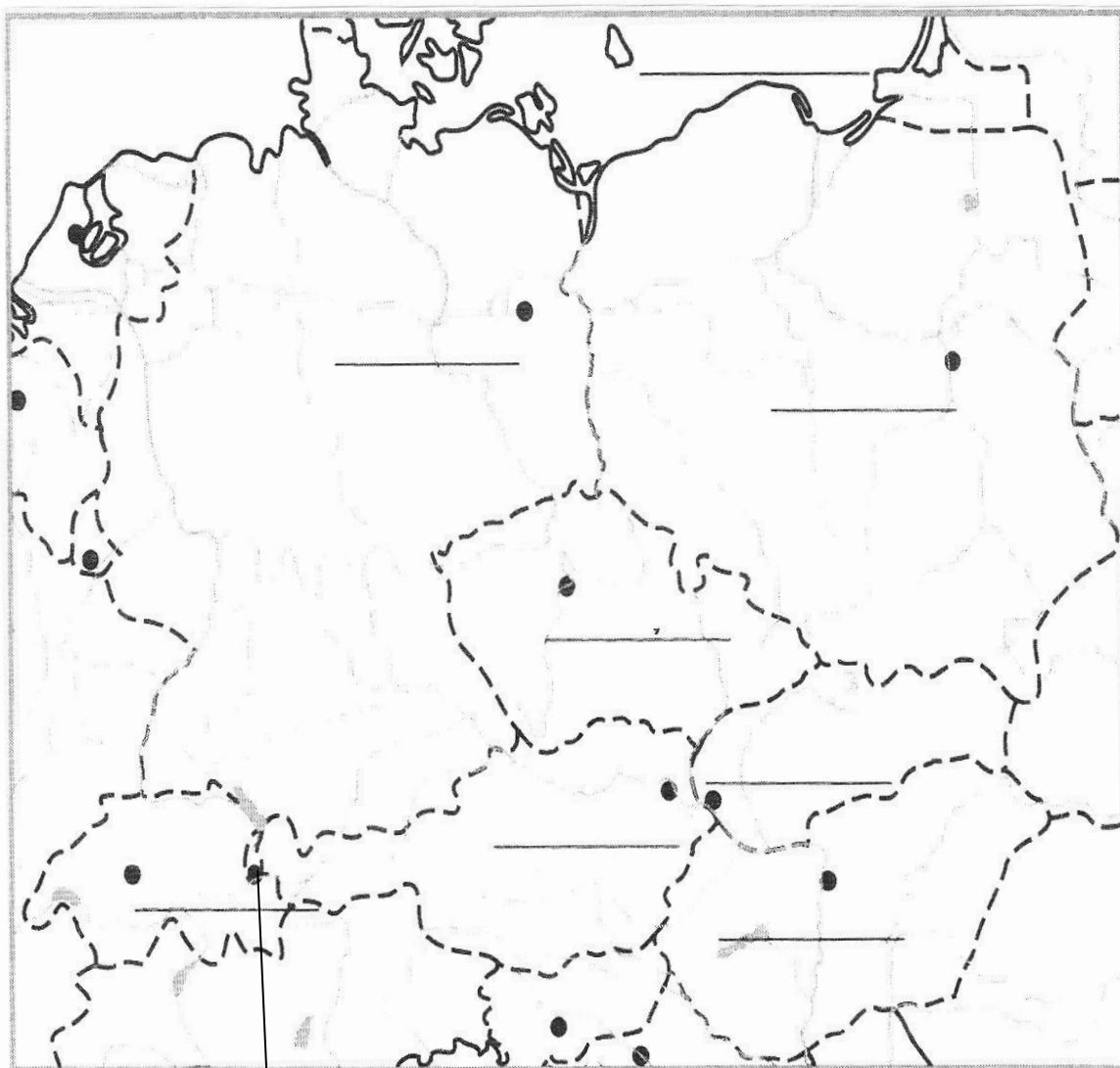
A. Strádalová, Mgr. D. Nováková, M. Strádalová, M. Metlický.

Vytvořeno dne 11. 1. 2012.

Nový začátek (New start) CZ.1.07/1.4.00/21.1409

Tento projekt je spolufinancován Evropským sociálním fondem a státním rozpočtem České republiky.

6. Zapiš do mapy hlavní města států střední Evropy – pracuj s atlasem.



Autorem materiálu a všech jeho částí, není-li uvedeno jinak, jsou:

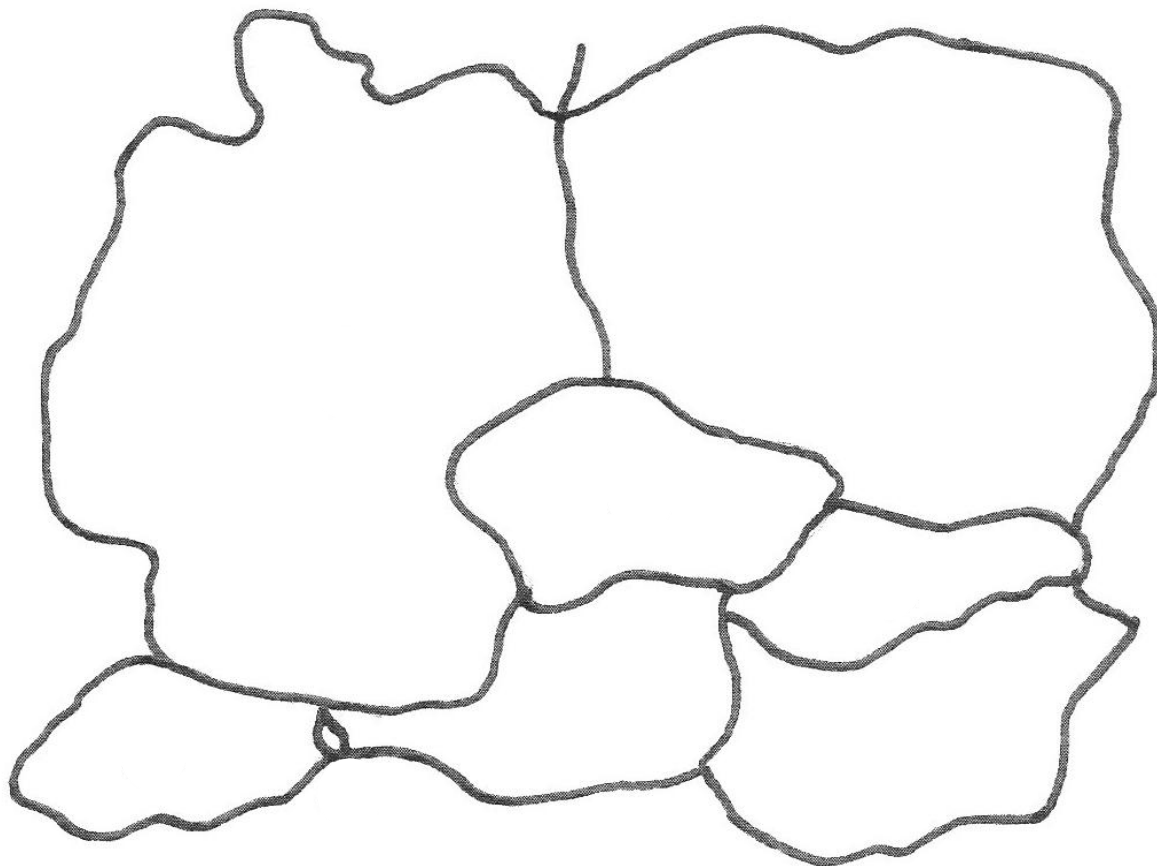
A. Strádalová, Mgr. D. Nováková, M. Strádalová, M. Metlický.

Vytvořeno dne 11. 1. 2012.

Nový začátek (New start) CZ.1.07/1.4.00/21.1409

Tento projekt je spolufinancován Evropským sociálním fondem a státním rozpočtem České republiky.

7. Pracuj s atlasem- Zakresli do mapy nížiny – zeleně a pohoří – hnědě.



8. Mezi Švýcarskem a Rakouskem leží malé knížectví.

Doplň podle atlasu jeho název.

Autorem materiálu a všech jeho částí, není-li uvedeno jinak, jsou:

A. Strádalová, Mgr. D. Nováková, M. Strádalová, M. Metlický.


Vytvořeno dne 11. 1. 2012.

Nový začátek (New start) CZ.1.07/1.4.00/21.1409


Tento projekt je spolufinancován Evropským sociálním fondem a státním rozpočtem České republiky.

9. Vybarvi vlajky států střední Evropy. Pracuj s atlasem.


1




2



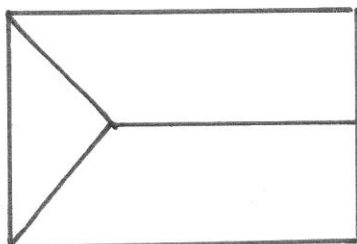
3




4




5




6



7



8



1 Německo

2 Polsko

3 Rakousko

4 Švýcarsko

5 Česko

6 Maďarsko

7 Lichtenštejnsko

8 Slovensko

Autorem materiálu a všech jeho částí, není-li uvedeno jinak, jsou:

A. Strádalová, Mgr. D. Nováková, M. Strádalová, M. Metlický.

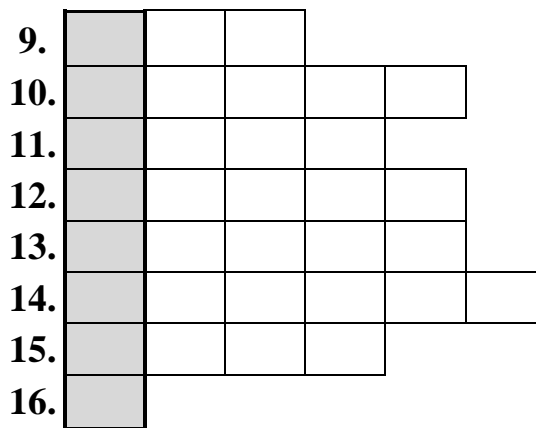
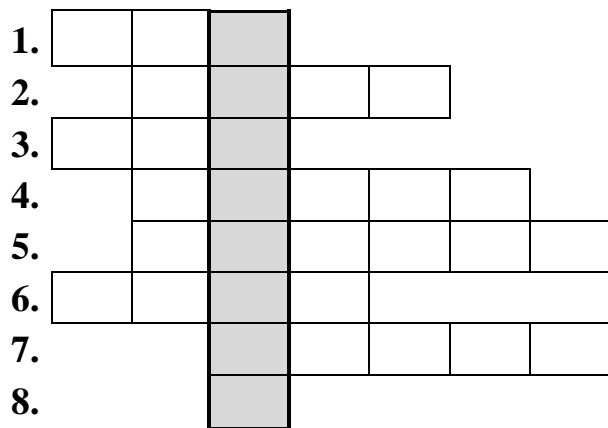
Vytvořeno dne 11. 1. 2012.

Nový začátek (New start) CZ.1.07/1.4.00/21.1409

Tento projekt je spolufinancován Evropským sociálním fondem a státním rozpočtem České republiky.

10. Vylušti tajenku a dopiš odpověď.

Jak se nazývají největší jezera ve střední Evropě?



1. Krájíme s tím chleba.

2. Píšeme tím.

3. Zdál se mi

4. Opak – malý -

5. Na Vánoce zapalujeme

6. Houby sbíráme v

7. Název města, kde žiješ.

8. Dlouhá samohláska e.

9. Samec od krávy je

10. Muži si oblékají slavnostní
.....

11. Po škole jdu ihned

12. V zeměpise používám

13. Bílá tekutina je

14. Na obloze svítí

15. Malá žlutá slepička je

16. Dlouhá samohláska e.

Největší jezera se nazývají _____ a

_____.

Autorem materiálu a všech jeho částí, není-li uvedeno jinak, jsou:

A. Strádalová, Mgr. D. Nováková, M. Strádalová, M. Metlický.

Vytvořeno dne 11. 1. 2012.

Nový začátek (New start) CZ.1.07/1.4.00/21.1409

Tento projekt je spolufinancován Evropským sociálním fondem a státním rozpočtem České republiky.

STŘEDNÍ EVROPA – řešení

1. Napiš správně názvy států.

Ke státům střední Evropy patří i OKSEČ ČESKO. Dále pak OKCEMĚN NĚMECKO, OKSUOKAR RAKOUSKO, OKSRACÝVŠ ŠVÝCARSKO, OKSLOP POLSKO, OKSNJETŠNETCHIL LICHTENŠTEJNSKO, OKSNEVOLS SLOVENSKO, OKSRAĐAM MAĐARSKO.

2. Doplň do článku slova ze závorky. Potom si článek pozorně přečti.

V severní části střední Evropy převládají nížiny. Jižními oblastmi procházejí Alpy. Na Slovensku jsou nejvyšším pohořím Tatry. Střední Evropou protéká Dunaj. V Alpách se nacházejí ledovcová jezera.

(Alpy, ledovcová jezera, Tatry, nížiny, Dunaj)

3. V EU jsou tyto státy. Správnou odpověď zakroužkuj.

☒ Polsko

☒ Německo

☒ Slovensko

☐ Lichtenštejnsko

☒ Rakousko

☒ Maďarsko

☒ Česko

☐ Švýcarsko

Autorem materiálu a všech jeho částí, není-li uvedeno jinak, jsou:

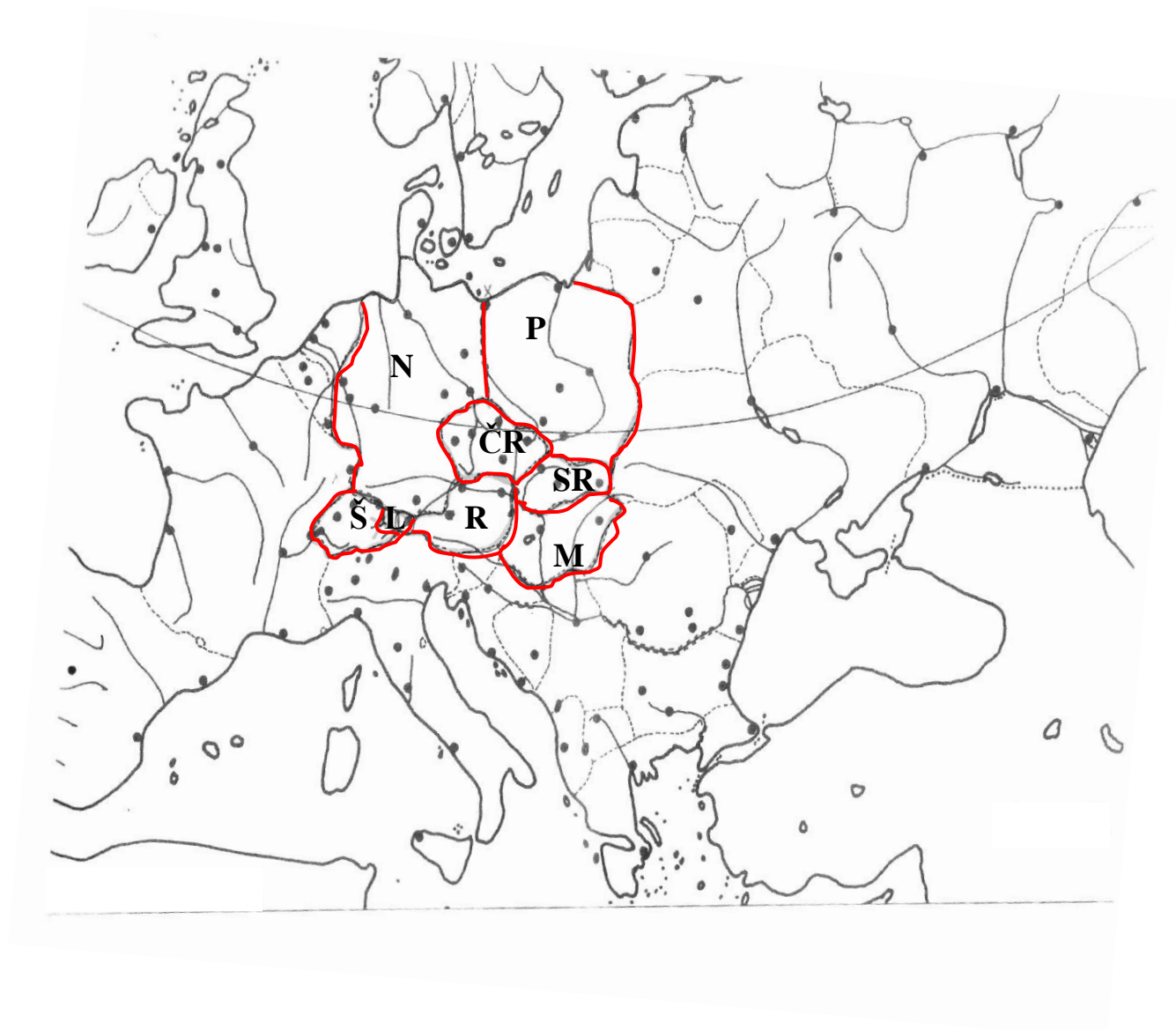
A. Strádalová, Mgr. D. Nováková, M. Strádalová, M. Metlický.

Vytvořeno dne 11. 1. 2012.

Nový začátek (New start) CZ.1.07/1.4.00/21.1409

Tento projekt je spolufinancován Evropským sociálním fondem a státním rozpočtem České republiky.

4. Červenou pastelkou obtáhni hranice států střední Evropy.



Nápověda - zkratky států ti pomůžou.

Autorem materiálu a všech jeho částí, není-li uvedeno jinak, jsou:

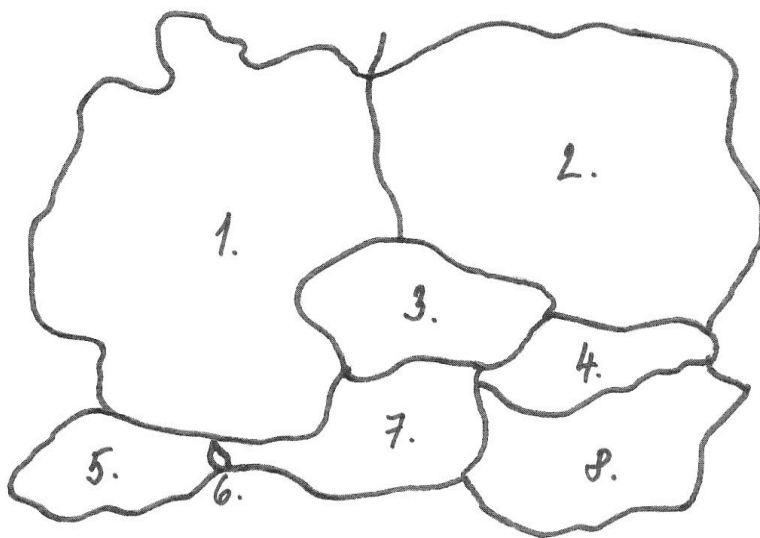
A. Strádalová, Mgr. D. Nováková, M. Strádalová, M. Metlický.

Vytvořeno dne 11. 1. 2012.

Nový začátek (New start) CZ.1.07/1.4.00/21.1409

Tento projekt je spolufinancován Evropským sociálním fondem a státním rozpočtem České republiky.

5. K číslům přiřaď názvy států střední Evropy.



1. **Německo**

2. **Polsko**

3. **Česko**

4. **Slovensko**

5. **Švýcarsko**

6. **Lichtenštejnsko**

7. **Rakousko**

8. **Maďarsko**

Autorem materiálu a všech jeho částí, není-li uvedeno jinak, jsou:

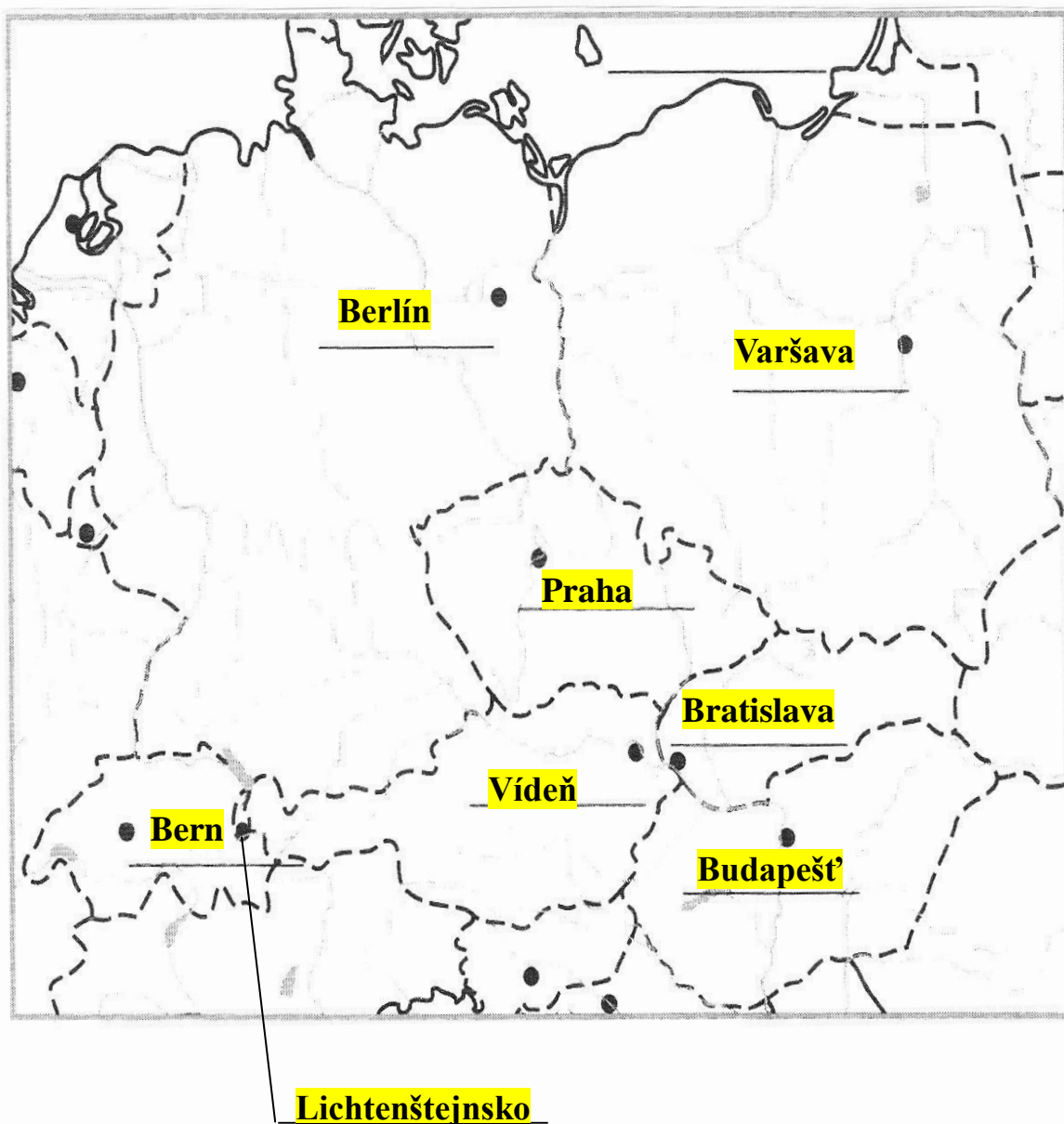
A. Strádalová, Mgr. D. Nováková, M. Strádalová, M. Metlický.

Vytvořeno dne 11. 1. 2012.

Nový začátek (New start) CZ.1.07/1.4.00/21.1409

Tento projekt je spolufinancován Evropským sociálním fondem a státním rozpočtem České republiky.

6. Zapiš do mapy hlavní města států střední Evropy – pracuj s atlasem.



Autorem materiálu a všech jeho částí, není-li uvedeno jinak, jsou:

A. Strádalová, Mgr. D. Nováková, M. Strádalová, M. Metlický.

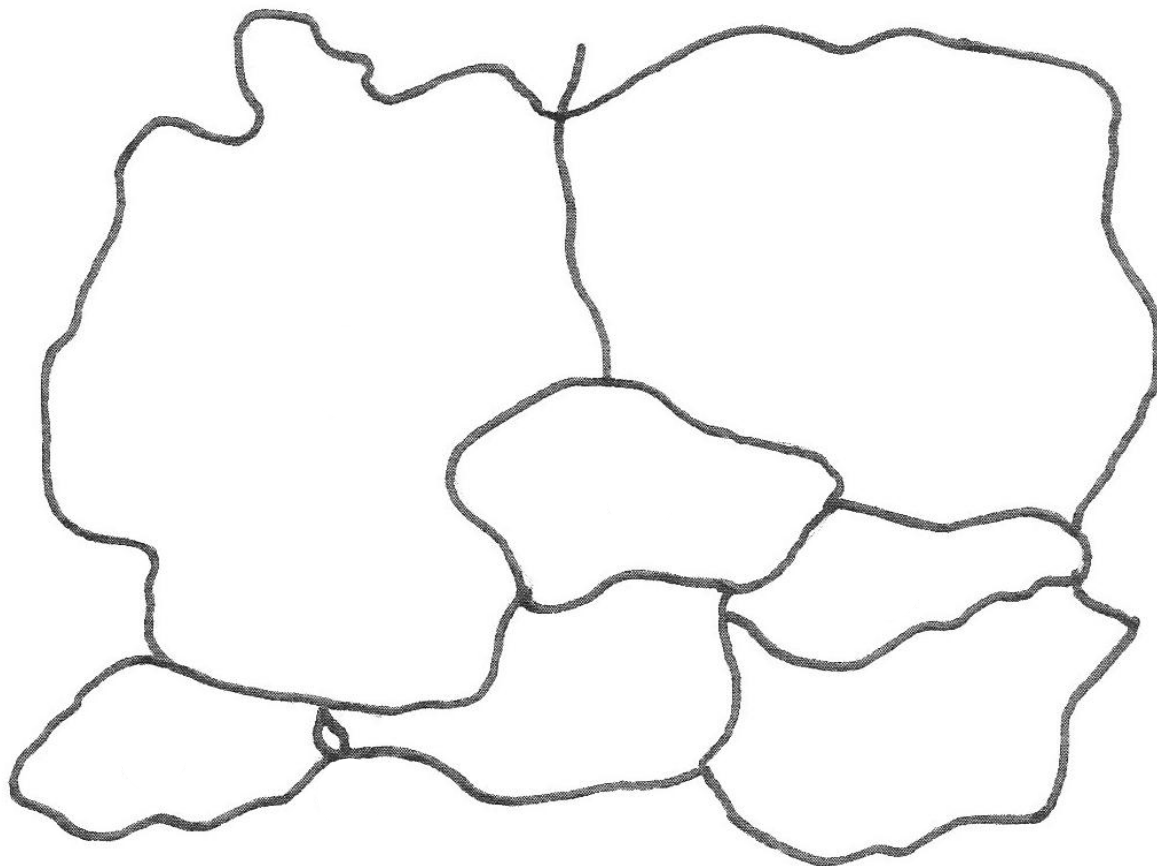
Vytvořeno dne 11. 1. 2012.

Nový začátek (New start) CZ.1.07/1.4.00/21.1409

Tento projekt je spolufinancován Evropským sociálním fondem a státním rozpočtem České republiky.

7. Pracuj s atlasem- Zakresli do mapy nížiny – zeleně a pohoří – hnědě.

Samostatná práce žáků



8. Mezi Švýcarskem a Rakouskem leží malé knížectví.

Doplň podle atlasu jeho název.

Lichtenštejnsko

Autorem materiálu a všech jeho částí, není-li uvedeno jinak, jsou:

A. Strádalová, Mgr. D. Nováková, M. Strádalová, M. Metlický.


Vytvořeno dne 11. 1. 2012.

Nový začátek (New start) CZ.1.07/1.4.00/21.1409


Tento projekt je spolufinancován Evropským sociálním fondem a státním rozpočtem České republiky.

9. Vybarvi vlajky států střední Evropy. Pracuj s atlasem. **Samostatná práce žáků**


1




2



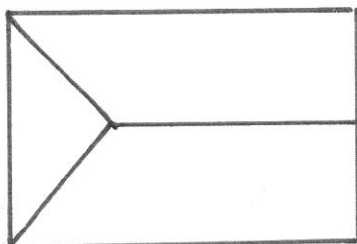
3




4




5




6



7



8



1 Německo

2 Polsko

3 Rakousko

4 Švýcarsko

5 Česko

6 Maďarsko

7 Lichtenštejnsko

8 Slovensko

Autorem materiálu a všech jeho částí, není-li uvedeno jinak, jsou:

A. Strádalová, Mgr. D. Nováková, M. Strádalová, M. Metlický.

Vytvořeno dne 11. 1. 2012.

Nový začátek (New start) CZ.1.07/1.4.00/21.1409

Tento projekt je spolufinancován Evropským sociálním fondem a státním rozpočtem České republiky.

10. Vylušti tajenku a dopiš odpověď.

Jak se nazývají největší jezera ve střední Evropě?

1.	N	Ů	Ž				
2.		P	E	R	O		
3.	S	E	N				
4.		V	E	L	K	Ý	
5.		S	V	Í	Č	K	U
6.	L	E	S	E			
7.			K	A	D	A	Ň
8.			É				

9.	B	Ý	K				
10.	O	B	L	E	K		
11.	D	O	M	Ů			
12.	A	T	L	A	S		
13.	M	L	É	K	O		
14.	S	L	U	N	C	E	
15.	K	U	Ř	E			
16.	É						

1. Krájíme s tím chleba.

2. Píšeme tím.

3. Zdál se mi

4. Opak – malý -

5. Na Vánoce zapalujeme

6. Houby sbíráme v

7. Název města, kde žiješ.

8. Dlouhá samohláska e.

9. Samec od krávy je

10. Muži si oblékají slavnostní
.....

11. Po škole jdu ihned

12. V zeměpise používám

13. Bílá tekutina je

14. Na obloze svítí

15. Malá žlutá slepička je

16. Dlouhá samohláska e.

Největší jezera se nazývají Ženevské a
Bodamské.

Autorem materiálu a všech jeho částí, není-li uvedeno jinak, jsou:

A. Strádalová, Mgr. D. Nováková, M. Strádalová, M. Metlický.

Vytvořeno dne 11. 1. 2012.

Nový začátek (New start) CZ.1.07/1.4.00/21.1409

Tento projekt je spolufinancován Evropským sociálním fondem a státním rozpočtem České republiky.