

INVESTICE DO ROZVOJE VZDĚLÁVÁNÍ

č. 16

název	Česká republika
anotace	V pracovních listech si žáci prohlubují učivo o České republice. Testovou i zábavnou formou si ověřují znalosti na dané téma. Součástí pracovního listu je i správné řešení.
očekávaný výstup	ZV – LMP Člověk a příroda – 2. stupeň Z – vyhledat na mapách jednotlivé kraje České republiky a charakterizovat hospodářské poměry, přírodní zvláštnosti a kulturní zajímavosti
druh učebního materiálu	Pracovní list
druh interaktivity	Aktivita
ročník	9.

Autorem materiálu a všech jeho částí, není-li uvedeno jinak, jsou:

A. Strádalová, Mgr. D. Nováková, M. Strádalová, M. Metlický.

Vytvořeno dne 20. 11. 2011.

Nový začátek (New start) CZ.1.07/1.4.00/21.1409

Tento projekt je spolufinancován Evropským sociálním fondem a státním rozpočtem České republiky.

ČESKÁ REPUBLIKA – pracovní list

Jméno: _____

1. Urči na mapě světové strany a zakresli je.



2. Česká republika má _____
_____ obyvatel.

Správnou odpověď zakroužkuj a na volný řádek napiš slovy odpověď.

a) 7 000 000

b) 950 000

c) 10 500 000

Autorem materiálu a všech jeho částí, není-li uvedeno jinak, jsou:

A. Strádalová, Mgr. D. Nováková, M. Strádalová, M. Metlický.

Vytvořeno dne 20. 11. 2011.

Nový začátek (New start) CZ.1.07/1.4.00/21.1409

Tento projekt je spolufinancován Evropským sociálním fondem a státním rozpočtem České republiky.

3. Pracuj s atlasem.

Do čisté mapy ČR zakresli tyto symboly tak, aby to souhlasilo s mapou ČR.

hory




řeky, potoky



nižší kopce



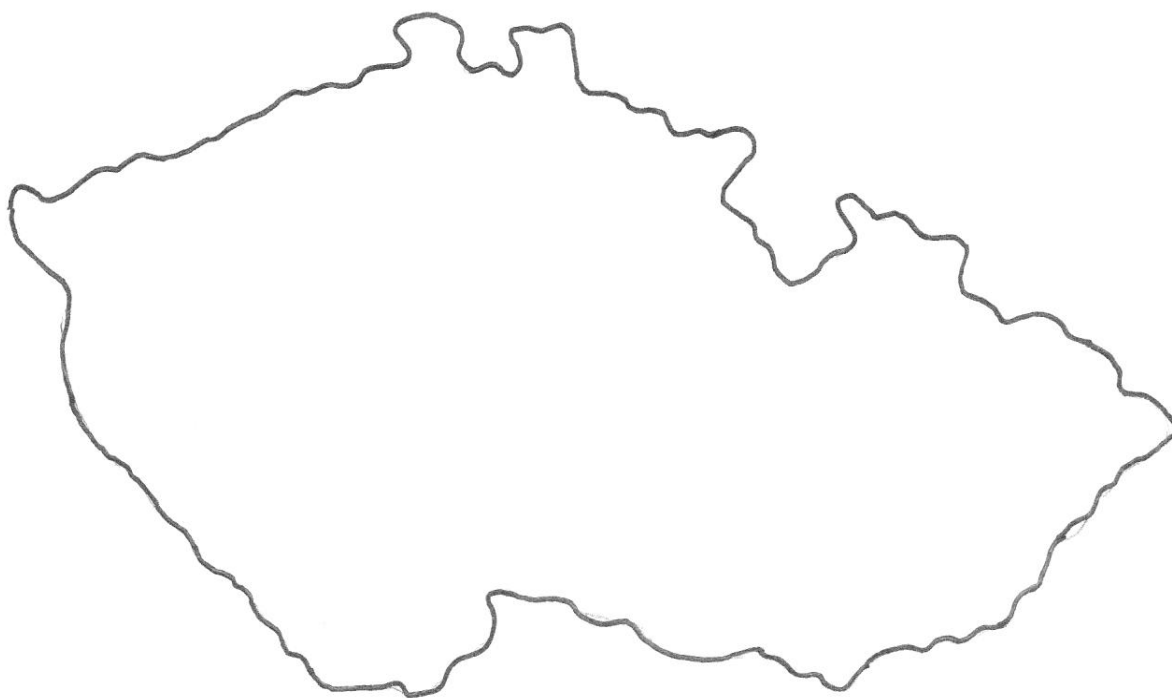
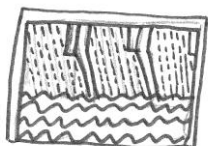
nádrže



rovina



přehrady



Autorem materiálu a všech jeho částí, není-li uvedeno jinak, jsou:

A. Strádalová, Mgr. D. Nováková, M. Strádalová, M. Metlický.

Vytvořeno dne 20. 11. 2011.

Nový začátek (New start) CZ.1.07/1.4.00/21.1409

Tento projekt je spolufinancován Evropským sociálním fondem a státním rozpočtem České republiky.

4. Kolik krajů má naše republika?

Vylušti rébus pomocí klíče.

Klíč:

á	c	č	n	r	t
↑	♣	→	■	□	♦

Rébus:

→	♦	□	■	↑	♣	♦

5. Najdi na mapě nejvyšší hory ČR, doplň jejich výšku a seřaď je od nejnižší k nejvyšší (dopiš na volné řádky).

Sněžka _____ m

Boubín _____ m

Kralický Sněžník _____ m

Praděd _____ m

1. _____

2. _____

3. _____

4. _____

Autorem materiálu a všech jeho částí, není-li uvedeno jinak, jsou:

A. Strádalová, Mgr. D. Nováková, M. Strádalová, M. Metlický.

Vytvořeno dne 20. 11. 2011.

Nový začátek (New start) CZ.1.07/1.4.00/21.1409

Tento projekt je spolufinancován Evropským sociálním fondem a státním rozpočtem České republiky.

6. Do mapy zakresli hnědou pastelkou tato pohoří. Světové strany ti napoví.

Šumava	JZ	Moravskoslezské Beskydy	V
Krušné hory	SZ	Bílé Karpaty	JV
Krkonoše	S	Novohradské hory	J
Jizerské hory	S	Český les	Z
Orlické hory	S	Slavkovský les	Z
Hrubý Jeseník	SV		



Autorem materiálu a všech jeho částí, není-li uvedeno jinak, jsou:

A. Strádalová, Mgr. D. Nováková, M. Strádalová, M. Metlický.

Vytvořeno dne 20. 11. 2011.

Nový začátek (New start) CZ.1.07/1.4.00/21.1409

Tento projekt je spolufinancován Evropským sociálním fondem a státním rozpočtem České republiky.

7. Do mapy vyznač naše hlavní řeky. Zakresli a čísla popiš i nádrže a rybníky.



- 1 **Labe**
- 2 **Vltava**
- 3 **Ohře**
- 4 **Morava**
- 5 **Odra**
- 6 **Lipno – nádrž**
- 7 **Nechranická přehrada**

Autorem materiálu a všech jeho částí, není-li uvedeno jinak, jsou:

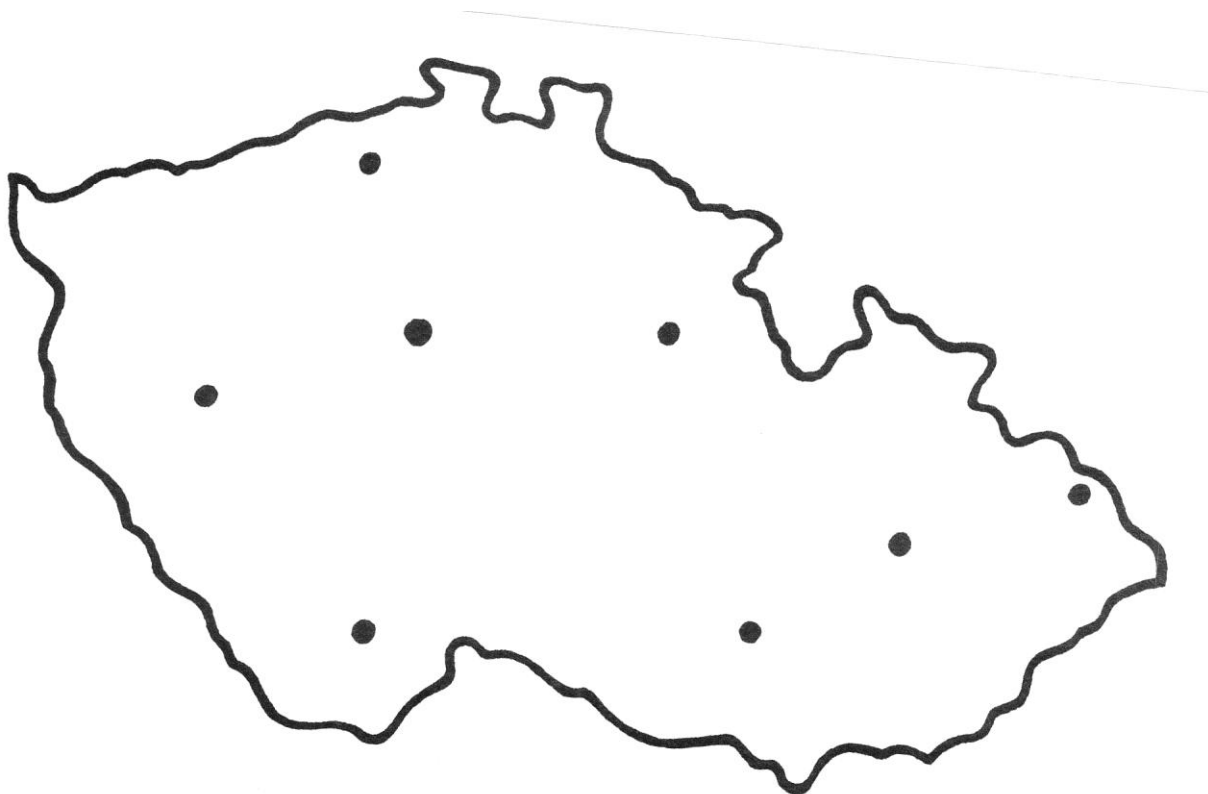
A. Strádalová, Mgr. D. Nováková, M. Strádalová, M. Metlický.

Vytvořeno dne 20. 11. 2011.

Nový začátek (New start) CZ.1.07/1.4.00/21.1409

Tento projekt je spolufinancován Evropským sociálním fondem a státním rozpočtem České republiky.

8. Vystřihni názvy měst a nalep je na správné místo do mapky.



Praha

České Budějovice

Plzeň

Ostrava

Ústí nad Labem

Olomouc

Brno

Pardubice

Autorem materiálu a všech jeho částí, není-li uvedeno jinak, jsou:

A. Strádalová, Mgr. D. Nováková, M. Strádalová, M. Metlický.

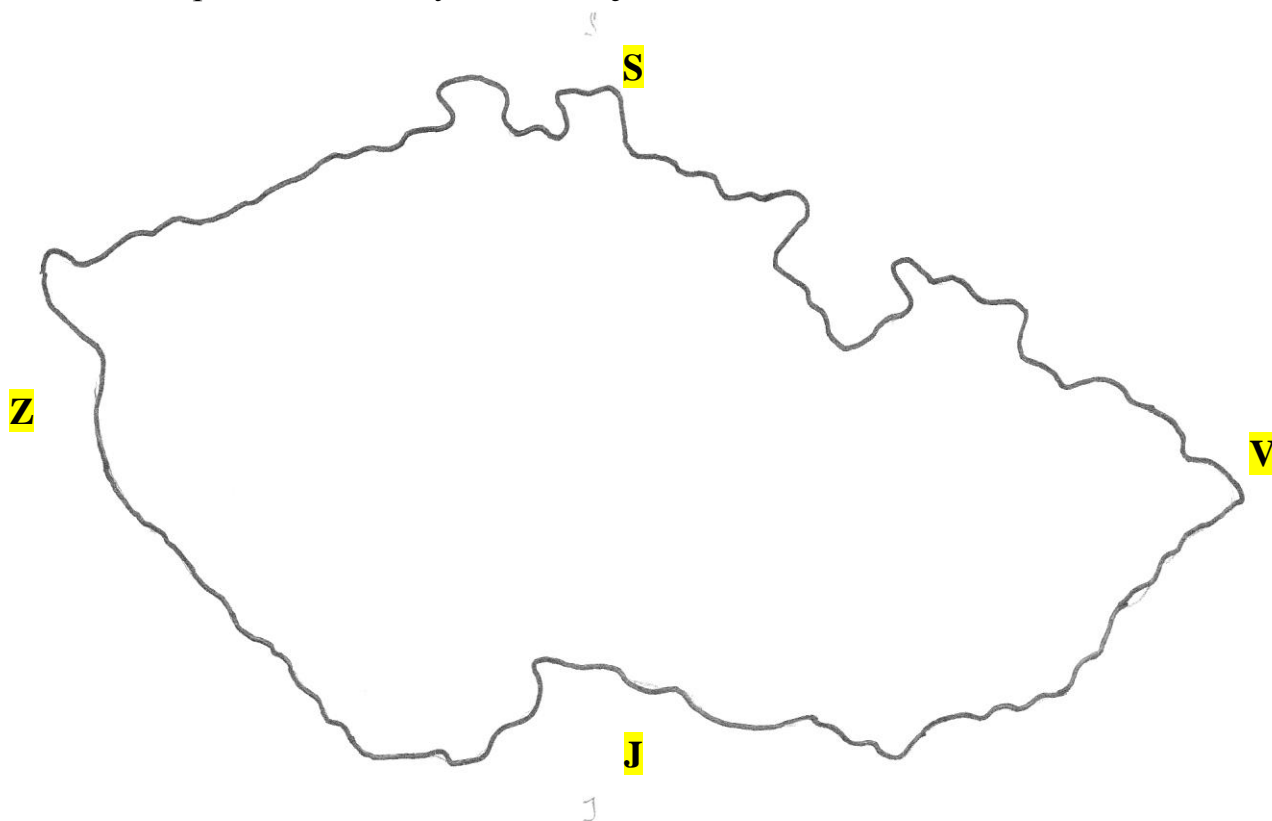
Vytvořeno dne 20. 11. 2011.

Nový začátek (New start) CZ.1.07/1.4.00/21.1409

Tento projekt je spolufinancován Evropským sociálním fondem a státním rozpočtem České republiky.

ČESKÁ REPUBLIKA – řešení

1. Urči na mapě světové strany a zakresli je.



2. Česká republika má deset milionů pět set tisíc
obyvatel.

Správnou odpověď zakroužkuj a na volný řádek napiš slovy odpověď.

a) 7 000 000

b) 950 000

☒ c) 10 500 000

Autorem materiálu a všech jeho částí, není-li uvedeno jinak, jsou:

A. Strádalová, Mgr. D. Nováková, M. Strádalová, M. Metlický.

Vytvořeno dne 20. 11. 2011.

Nový začátek (New start) CZ.1.07/1.4.00/21.1409

Tento projekt je spolufinancován Evropským sociálním fondem a státním rozpočtem České republiky.

3. Pracuj s atlasem.

Do čisté mapy ČR zakresli tyto symboly tak, aby to souhlasilo s mapou ČR.

hory




řeky, potoky



nižší kopce



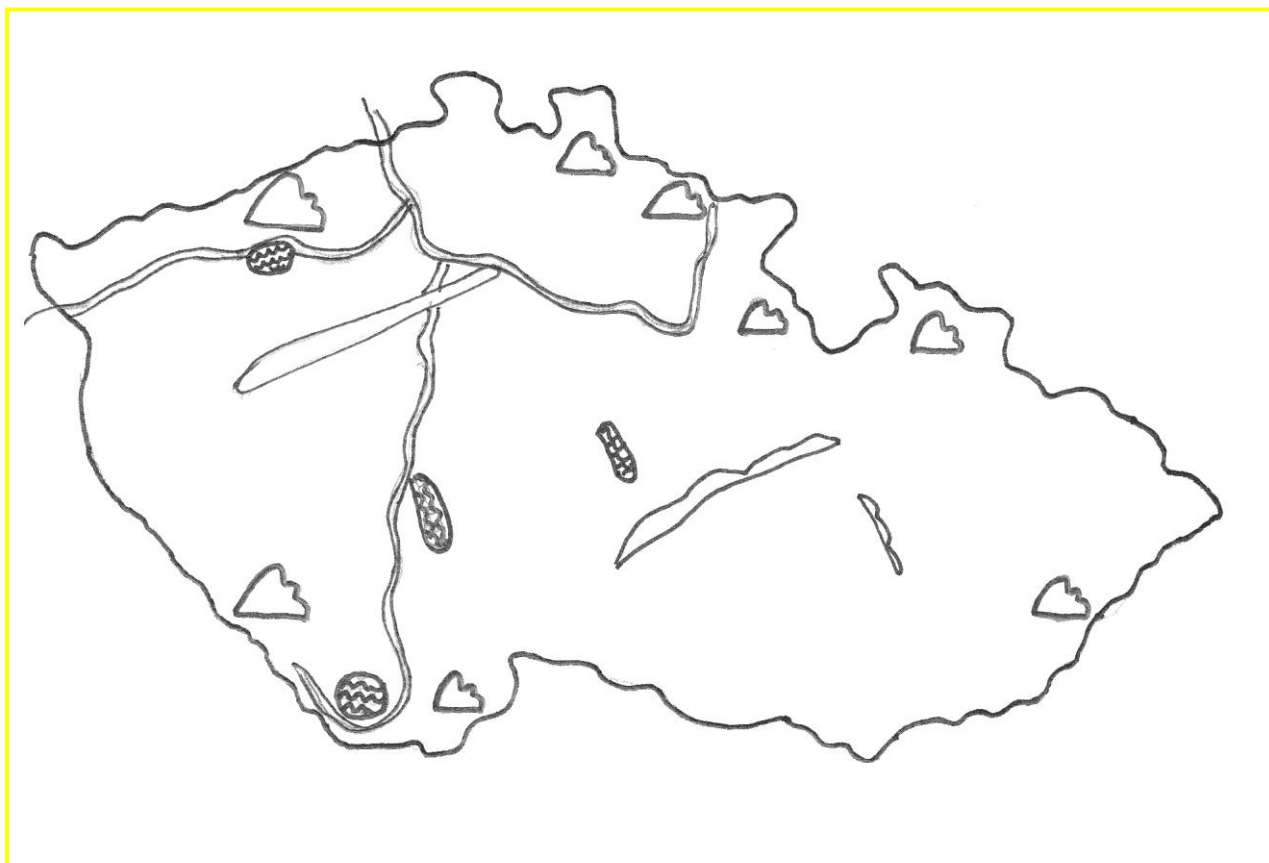
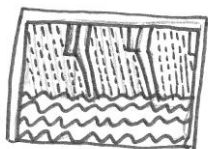
nádrže



rovina



přehrady



Autorem materiálu a všech jeho částí, není-li uvedeno jinak, jsou:

A. Strádalová, Mgr. D. Nováková, M. Strádalová, M. Metlický.

Vytvořeno dne 20. 11. 2011.

Nový začátek (New start) CZ.1.07/1.4.00/21.1409

Tento projekt je spolufinancován Evropským sociálním fondem a státním rozpočtem České republiky.

4. Kolik krajů má naše republika?

Vylušti rébus pomocí klíče.

Klíč:

á	c	č	n	r	t
↑	♣	→	■	□	♦

Rébus:

→	♦	□	■	↑	♣	♦
č	t	r	n	á	c	t

5. Najdi na mapě nejvyšší hory ČR, doplň jejich výšku a seřaď je od nejnižší k nejvyšší (dopiš na volné řádky).

Sněžka 1 602 m

Boubín 1 362 m

Kralický Sněžník 1 424 m

Praděd 1 492 m

1. Boubín

2. Kralický Sněžník

3. Praděd

4. Sněžka

Autorem materiálu a všech jeho částí, není-li uvedeno jinak, jsou:

A. Strádalová, Mgr. D. Nováková, M. Strádalová, M. Metlický.

Vytvořeno dne 20. 11. 2011.

Nový začátek (New start) CZ.1.07/1.4.00/21.1409

Tento projekt je spolufinancován Evropským sociálním fondem a státním rozpočtem České republiky.

6. Do mapy zakresli hnědou pastelkou tato pohoří. Světové strany ti napoví.

Šumava	JZ	Moravskoslezské Beskydy	V
Krušné hory	SZ	Bílé Karpaty	JV
Krkonoše	S	Novohradské hory	J
Jizerské hory	S	Český les	Z
Orlické hory	S	Slavkovský les	Z
Hrubý Jeseník	SV		



Autorem materiálu a všech jeho částí, není-li uvedeno jinak, jsou:

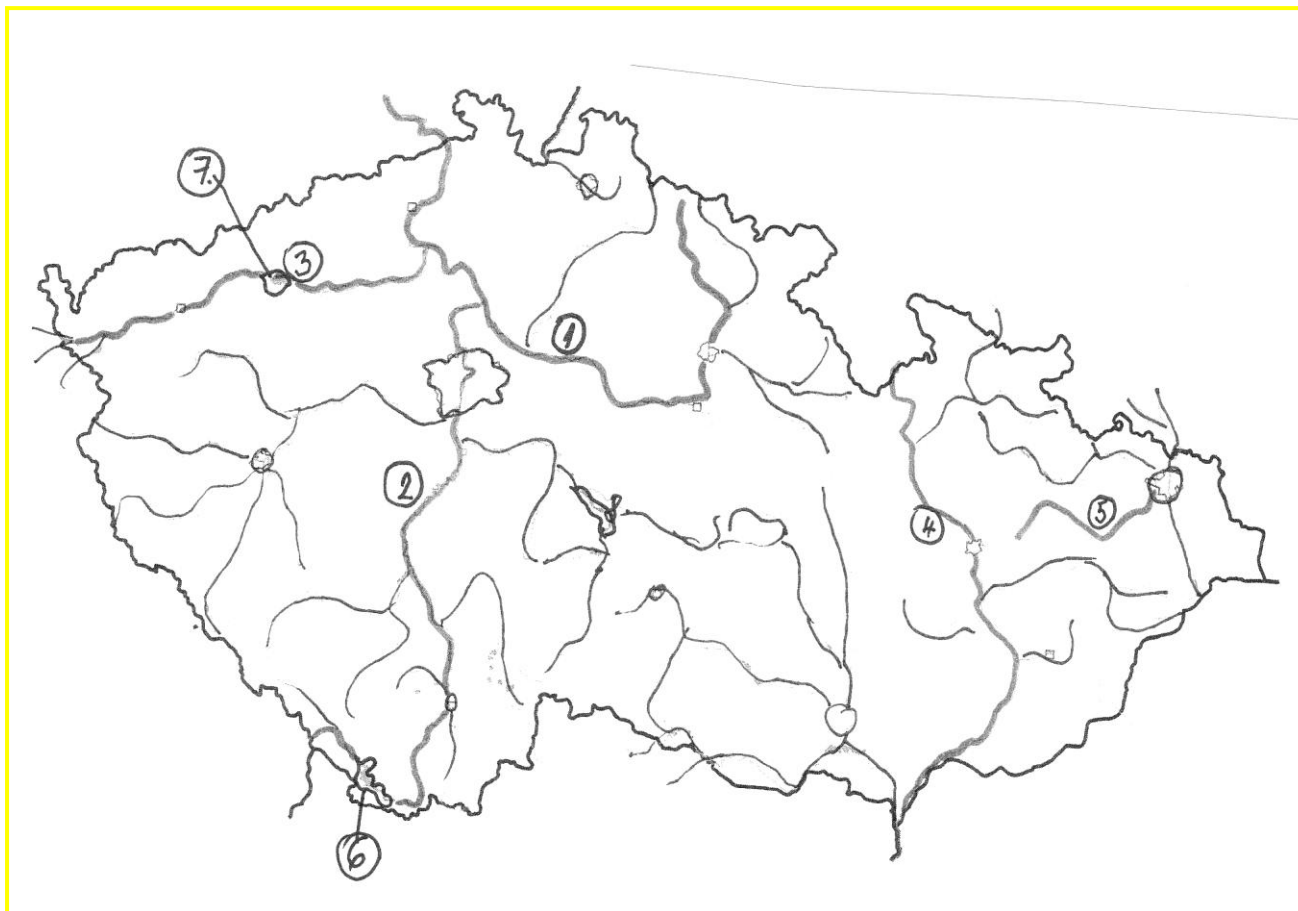
A. Strádalová, Mgr. D. Nováková, M. Strádalová, M. Metlický.

Vytvořeno dne 20. 11. 2011.

Nový začátek (New start) CZ.1.07/1.4.00/21.1409

Tento projekt je spolufinancován Evropským sociálním fondem a státním rozpočtem České republiky.

7. Do mapy vyznač naše hlavní řeky. Zakresli a čísla popiš i nádrže a rybníky.



- 1 **Labe**
- 2 **Vltava**
- 3 **Ohře**
- 4 **Morava**
- 5 **Odra**
- 6 **Lipno – nádrž**
- 7 **Nechranická přehrada**

Autorem materiálu a všech jeho částí, není-li uvedeno jinak, jsou:

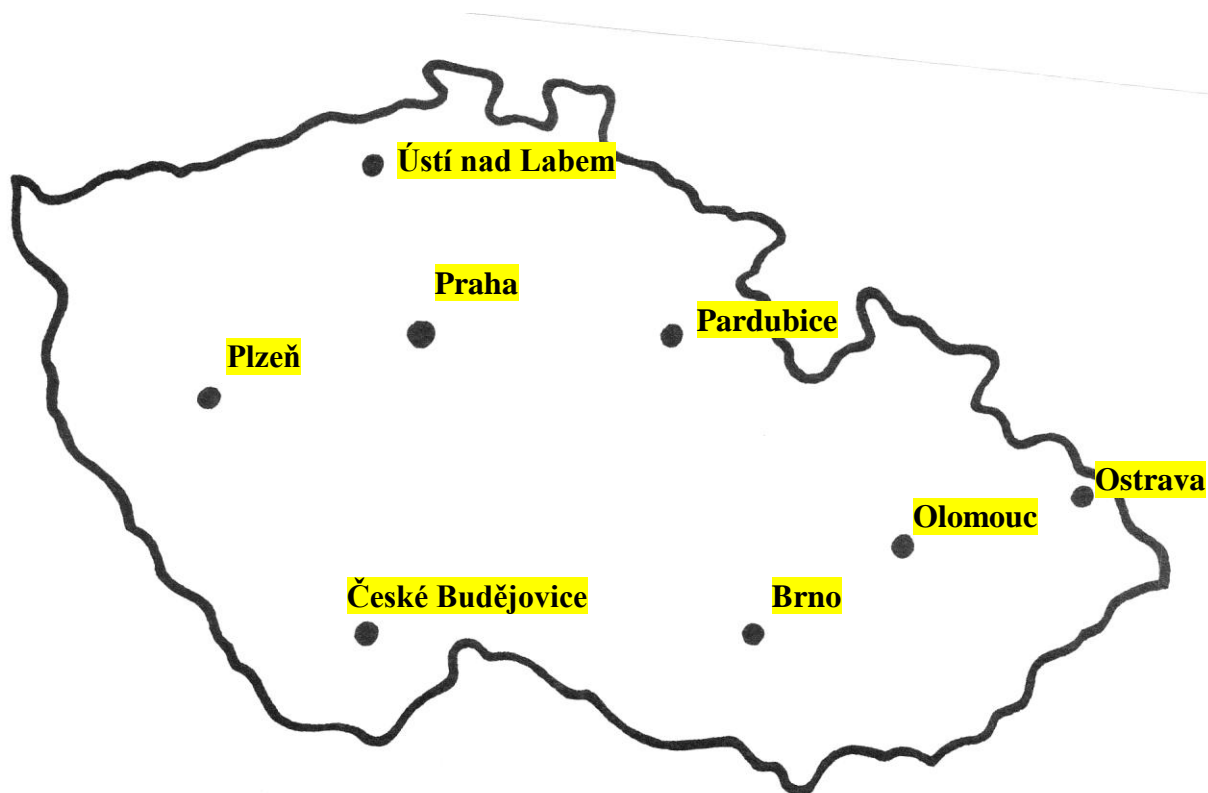
A. Strádalová, Mgr. D. Nováková, M. Strádalová, M. Metlický.

Vytvořeno dne 20. 11. 2011.

Nový začátek (New start) CZ.1.07/1.4.00/21.1409

Tento projekt je spolufinancován Evropským sociálním fondem a státním rozpočtem České republiky.

8. Vystříhni názvy měst a nalep je na správné místo do mapky.



Praha

České Budějovice

Plzeň

Ostrava

Ústí nad Labem

Olomouc

Brno

Pardubice

Autorem materiálu a všech jeho částí, není-li uvedeno jinak, jsou:

A. Strádalová, Mgr. D. Nováková, M. Strádalová, M. Metlický.

Vytvořeno dne 20. 11. 2011.

Nový začátek (New start) CZ.1.07/1.4.00/21.1409

Tento projekt je spolufinancován Evropským sociálním fondem a státním rozpočtem České republiky.