

INVESTICE DO ROZVOJE VZDĚLÁVÁNÍ

č. 7

název	Podmínky ČR, rozmístění obyvatelstva, vesnice a města
anotace	V pracovních listech žáci poznávají živou přírodu ČR, dle mapy popisují rozmístění obyvatelstva a poznává největší města ČR. Testovou i zábavnou formou si ověřují znalosti na dané téma. Součástí pracovního listu je i správné řešení.
očekávaný výstup	ZV – LMP Člověk a příroda – 2. stupeň Z – znát přírodní podmínky ČR, popsat povrch a jeho členitost - uvést hlavní údaje o rozmístění obyvatelstva
druh učebního materiálu	Pracovní list
druh interaktivity	Aktivita
ročník	6.

Autorem materiálu a všech jeho částí, není-li uvedeno jinak, jsou:

A. Strádalová, Mgr. D. Nováková.

Vytvořeno dne 4. 1. 2013.

Nový začátek (New start) CZ.1.07/1.4.00/21.1409

Tento projekt je spolufinancován Evropským sociálním fondem a státním rozpočtem České republiky.

PODMÍNKY ČR, ROZMÍSTĚNÍ OBYVATELSTVA, VESNICE A MĚSTA – pracovní list

Jméno: _____

1. Do mapky zakresli zkratky světových stran – S, J, V, Z, SV, SZ, JV, JZ a napiš názvy sousedních států.



Autorem materiálu a všech jeho částí, není-li uvedeno jinak, jsou:

A. Strádalová, Mgr. D. Nováková.

Vytvořeno dne 4. 1. 2013.

Nový začátek (New start) CZ.1.07/1.4.00/21.1409

Tento projekt je spolufinancován Evropským sociálním fondem a státním rozpočtem České republiky.

2. Doplň slova za závorky do článku.

Česká republika leží v _____. Je to _____
stát. Rozloha území ČR je _____, délka hranice je
_____. ČR sousedí se sousedními státy _____
_____.

(vnitrozemský, 2 289,7 km, v Evropě, Polsko, Rakousko, Německo,
Slovensko, 78 864 km²)

Napiš některé tři státy Evropské unie: _____

3. Napiš názvy stromů, které můžeš najít na území ČR.

Jehličnaté stromy:

Listnaté stromy:

Autorem materiálu a všech jeho částí, není-li uvedeno jinak, jsou:

A. Strádalová, Mgr. D. Nováková.

Vytvořeno dne 4. 1. 2013.

Nový začátek (New start) CZ.1.07/1.4.00/21.1409

Tento projekt je spolufinancován Evropským sociálním fondem a státním rozpočtem České republiky.

4. Přelož tyto symboly pomoci klíče do věty a tu pak napiš na volný řádek.

Našimi nejteplejšími oblastmi jsou nížiny.

Klíč:

a	á	b	c	č	d	e	ě	h	i	í	j	k	l
☞	↑	ℓ	ℓ	→	ℓ	ℓ	↗	≡	✕	↙	er	&	●

m	n	o	p	r	ř	s	š	t	u	ů	v	x	y	z	ž	2	0
○	■	□	□	□	☞	♦	∞	◆	◆	□	◆	☒	☒	⌘	·	☰	☑

Věta:

□	ℓ	ℓ	ℓ	↑	◆	■	☞		ℓ	☒	●	☒		□	♦	↙	ℓ	●	ℓ	■	☒

☞		→	●	□	◆	↗	&	ℓ	○		□	☞	ℓ	○	↗	■	↗	■	☒

■	↙	·	✕	■	☒		ℓ	□		☰	☑	☑		○	ℓ	◆	□	□

Autorem materiálu a všech jeho částí, není-li uvedeno jinak, jsou:

A. Strádalová, Mgr. D. Nováková.

Vytvořeno dne 4. 1. 2013.

Nový začátek (New start) CZ.1.07/1.4.00/21.1409

Tento projekt je spolufinancován Evropským sociálním fondem a státním rozpočtem České republiky.

5. Správně přiřaď, kde žijí tato zvířata.

bažant

jezevec

jelen

koroptev

divoké prase

**V NÍŽINÁCH
(KOLEM ŘEK)**

**V HORÁCH
(V LESÍCH)**

ryby

žába

srna

zajíc

datel

veverka

6. Zakroužkuj správnou odpověď:

Občané ČR jsou:

- a) Němci**
- b) Češi**
- c) Moravané**
- d) Poláci**
- e) Slované**
- f) Slezané**
- g) Vietnamci**

Autorem materiálu a všech jeho částí, není-li uvedeno jinak, jsou:

A. Strádalová, Mgr. D. Nováková.

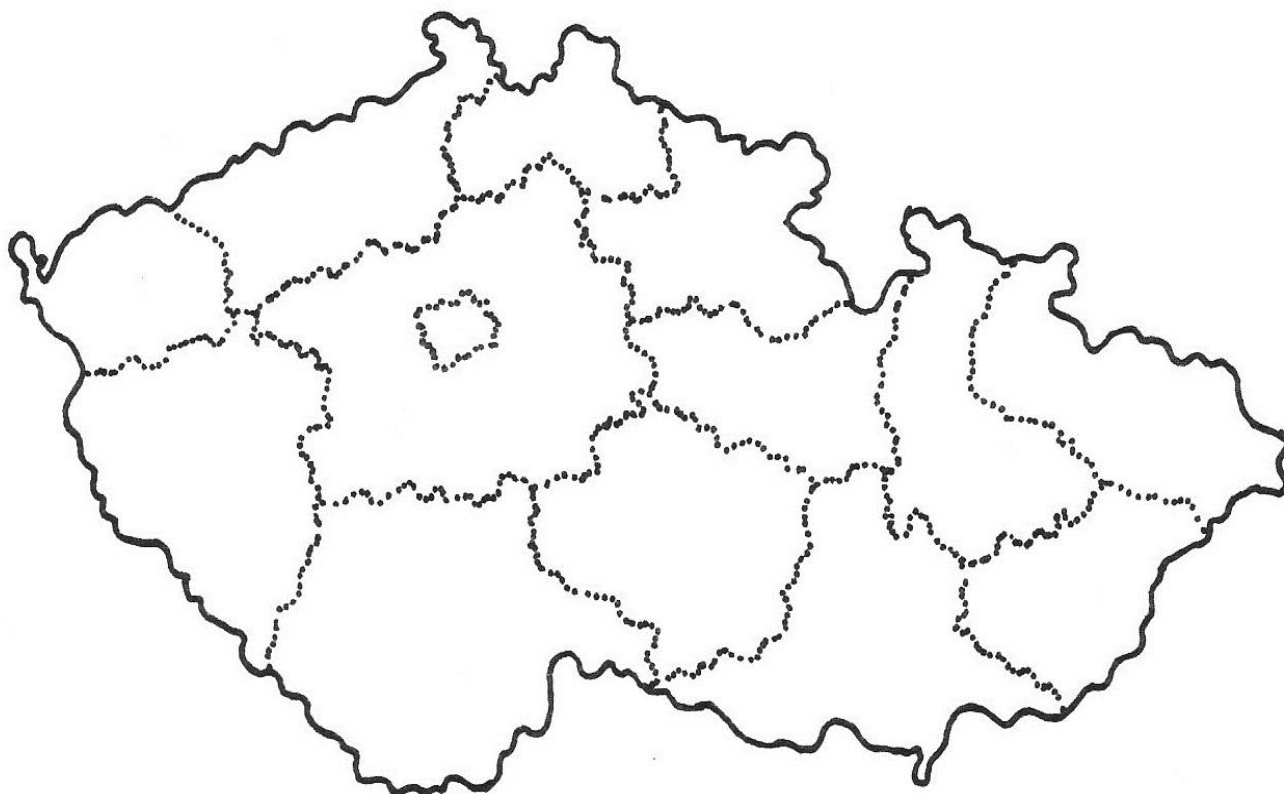
Vytvořeno dne 4. 1. 2013.

Nový začátek (New start) CZ.1.07/1.4.00/21.1409

Tento projekt je spolufinancován Evropským sociálním fondem a státním rozpočtem České republiky.

7. V ČR žije mnoho cizích státních příslušníků. Uveď alespoň dva:

8. **A** Dopiš do mapy ČR čísla u názvů krajů.



1. Ústecký kraj
2. Karlovarský kraj
3. Plzeňský kraj
4. Liberecký kraj
5. Královéhradecký kraj
6. Středočeský kraj
7. Praha

8. Jihočeský kraj
9. Kraj Vysočina
10. Pardubický kraj
11. Olomoucký kraj
12. Jihomoravský kraj
13. Zlínský kraj
14. Moravskoslezský kraj

Autorem materiálu a všech jeho částí, není-li uvedeno jinak, jsou:

A. Strádalová, Mgr. D. Nováková.

Vytvořeno dne 4. 1. 2013.

Nový začátek (New start) CZ.1.07/1.4.00/21.1409

Tento projekt je spolufinancován Evropským sociálním fondem a státním rozpočtem České republiky.

B Dopln tabulku: k názvu kraje dopiš počet obyvatel a seřaď kraje podle početnosti obyvatel od největšího po nejmenší.

Název kraje	Počet obyvatel	Pořadí
Ústecký kraj		
Plzeňský kraj		
Karlovarský kraj		
Liberecký kraj		
Středočeský kraj		
Praha		
Jihočeský kraj		
Královéhradecký kraj		
Pardubický kraj		
Kraj Vysočina		
Jihomoravský kraj		
Olomoucký kraj		
Moravskoslezský kraj		
Zlínský kraj		

9. Zakroužkuj správnou odpověď:

Počet obyvatel v Praze:

a. 1 245 213

b. 2 485 019

c. 999 823

Počet obyvatel v Kadani:

a. 100 238

b. 18 062

c. 1 182 365

Autorem materiálu a všech jeho částí, není-li uvedeno jinak, jsou:

A. Strádalová, Mgr. D. Nováková.

Vytvořeno dne 4. 1. 2013.

Nový začátek (New start) CZ.1.07/1.4.00/21.1409

Tento projekt je spolufinancován Evropským sociálním fondem a státním rozpočtem České republiky.

10. Největší města ČR – seřaď města od největšího k nejmenšímu. Sudá čísla vybarvi modře a lichá zeleně.

Město	Počet obyvatel	Pořadí
Praha		
České Budějovice		
Pardubice		
Liberec		
Ostrava		
Olomouc		
Brno		
Ústí nad Labem		
Plzeň		
Hradec Králové		
Zlín		

11. Slož správně slova a dopiš.

Obyvatelé České republiky bydlí **EV CHETSĚM** _____
i **EV CHÍCINSEV** _____. Vesnice se zakládaly především
tam, kde byla **ADŮP ÁNDORÚ** _____.
Ve městech v současné době žijí **ĚVD YNITEŘT** _____
všech **LETAVYBO** _____.

Autorem materiálu a všech jeho částí, není-li uvedeno jinak, jsou:

A. Strádalová, Mgr. D. Nováková.

Vytvořeno dne 4. 1. 2013.

Nový začátek (New start) CZ.1.07/1.4.00/21.1409

Tento projekt je spolufinancován Evropským sociálním fondem a státním rozpočtem České republiky.

12. Do mapy zakresli zelenou pastelkou Moravské úvaly a Polabí. Tam nalezneme nejvíce vesnic.



13. Spoj, co k sobě patří.

LÁZNĚ

**HORNICKÉ
MĚSTO**

**HISTORICKÉ
MĚSTO**

**NEJZNÁMĚJŠÍ
SKANZEN**

**Most
Sokolov**

**Luhačovice
Karlovy Vary**

**Rožnov pod
Radhoštěm**

**Český Krumlov
Kroměříž**

Autorem materiálu a všech jeho částí, není-li uvedeno jinak, jsou:

A. Strádalová, Mgr. D. Nováková.

Vytvořeno dne 4. 1. 2013.

Nový začátek (New start) CZ.1.07/1.4.00/21.1409

Tento projekt je spolufinancován Evropským sociálním fondem a státním rozpočtem České republiky.

14. Vylušti tajenku v prvním sloupci. Zjistíš jméno řeky. Ukaž si ji na mapě.

1.		S	
2.	D		
3.			
4.			
5.			K
6.	N	N	

Umožňuje přejít řeku.

Řeka, která protéká Ostravou.

12 měsíců.

Město na západě Čech.

Dopravní prostředek.

Dívčí jméno.

Autorem materiálu a všech jeho částí, není-li uvedeno jinak, jsou:

A. Strádalová, Mgr. D. Nováková.

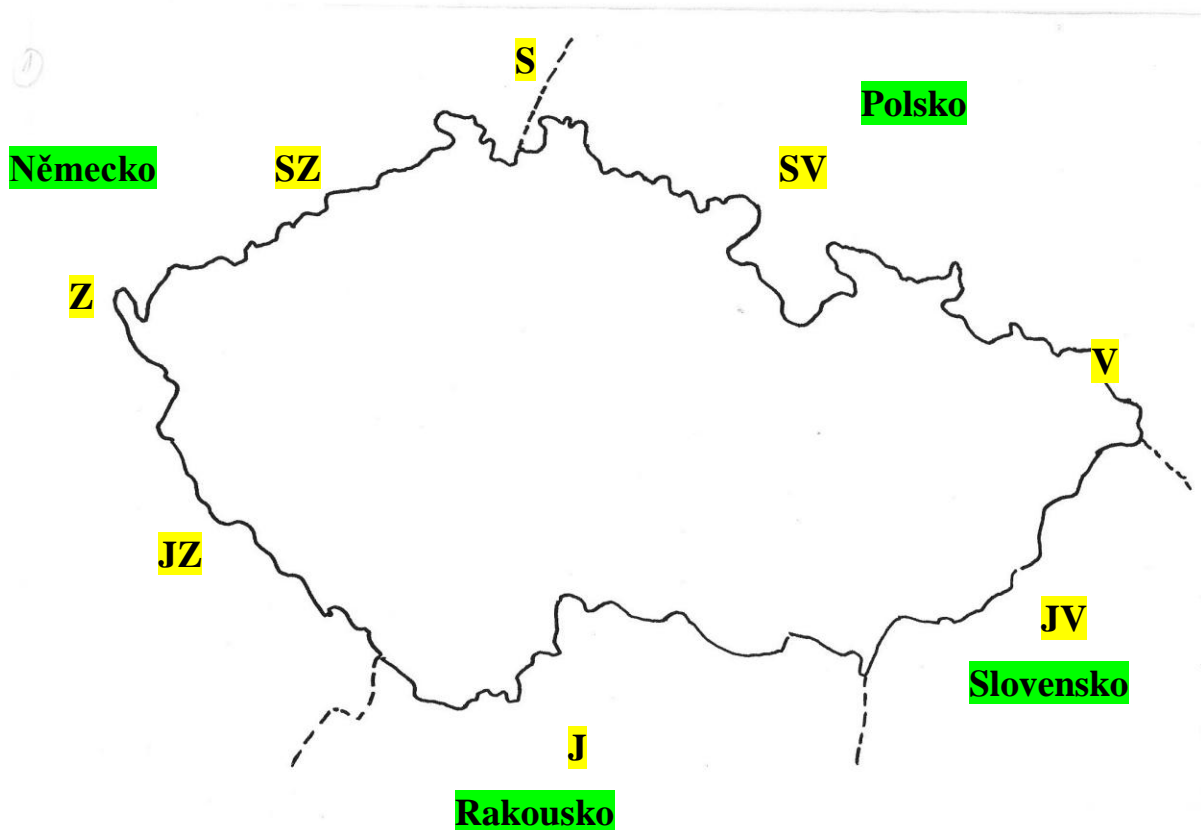
Vytvořeno dne 4. 1. 2013.

Nový začátek (New start) CZ.1.07/1.4.00/21.1409

Tento projekt je spolufinancován Evropským sociálním fondem a státním rozpočtem České republiky.

PODMÍNKY ČR, ROZMÍSTĚNÍ OBYVATELSTVA, VESNICE A MĚSTA – řešení

1. Do mapky zakresli zkratky světových stran – S, J, V, Z, SV, SZ, JV, JZ a napiš názvy sousedních států.



Autorem materiálu a všech jeho částí, není-li uvedeno jinak, jsou:

A. Strádalová, Mgr. D. Nováková.

Vytvořeno dne 4. 1. 2013.

Nový začátek (New start) CZ.1.07/1.4.00/21.1409

Tento projekt je spolufinancován Evropským sociálním fondem a státním rozpočtem České republiky.

2. Doplně slova za závorky do článku.

Česká republika leží v Evropě. Je to vnitrozemský stát. Rozloha území ČR je 78 864 km², délka hranice je 2 289,7 km. ČR sousedí se sousedními státy Polsko, Německo, Rakousko, Slovensko.

(vnitrozemský, 2 289,7 km, v Evropě, Polsko, Rakousko, Německo, Slovensko, 78 864 km²)

Napiš některé tři státy Evropské unie:

Slovensko

Německo

Rakousko

3. Napiš názvy stromů, které můžeš najít na území ČR.

Jehličnaté stromy:

např. smrč, borovice, jedle, modřín

Listnaté stromy:

např. dub, olše, topol, jasan, buk, bříza

Autorem materiálu a všech jeho částí, není-li uvedeno jinak, jsou:

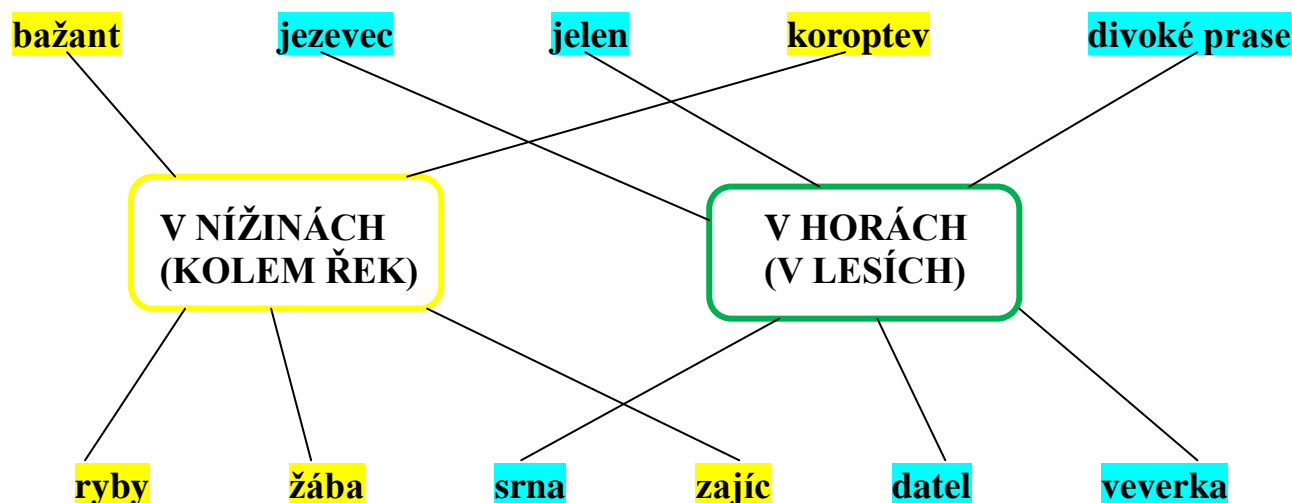
A. Strádalová, Mgr. D. Nováková.

Vytvořeno dne 4. 1. 2013.

Nový začátek (New start) CZ.1.07/1.4.00/21.1409

Tento projekt je spolufinancován Evropským sociálním fondem a státním rozpočtem České republiky.

5. Správně přiřaď, kde žijí tato zvířata.



6. Zakroužkuj správnou odpověď:

Občané ČR jsou:

a) Němci

☒ b) Češi

☐ c) Moravané

d) Poláci

e) Slované

☒ f) Slezané

g) Vietnamci

Autorem materiálu a všech jeho částí, není-li uvedeno jinak, jsou:

A. Strádalová, Mgr. D. Nováková.

Vytvořeno dne 4. 1. 2013.

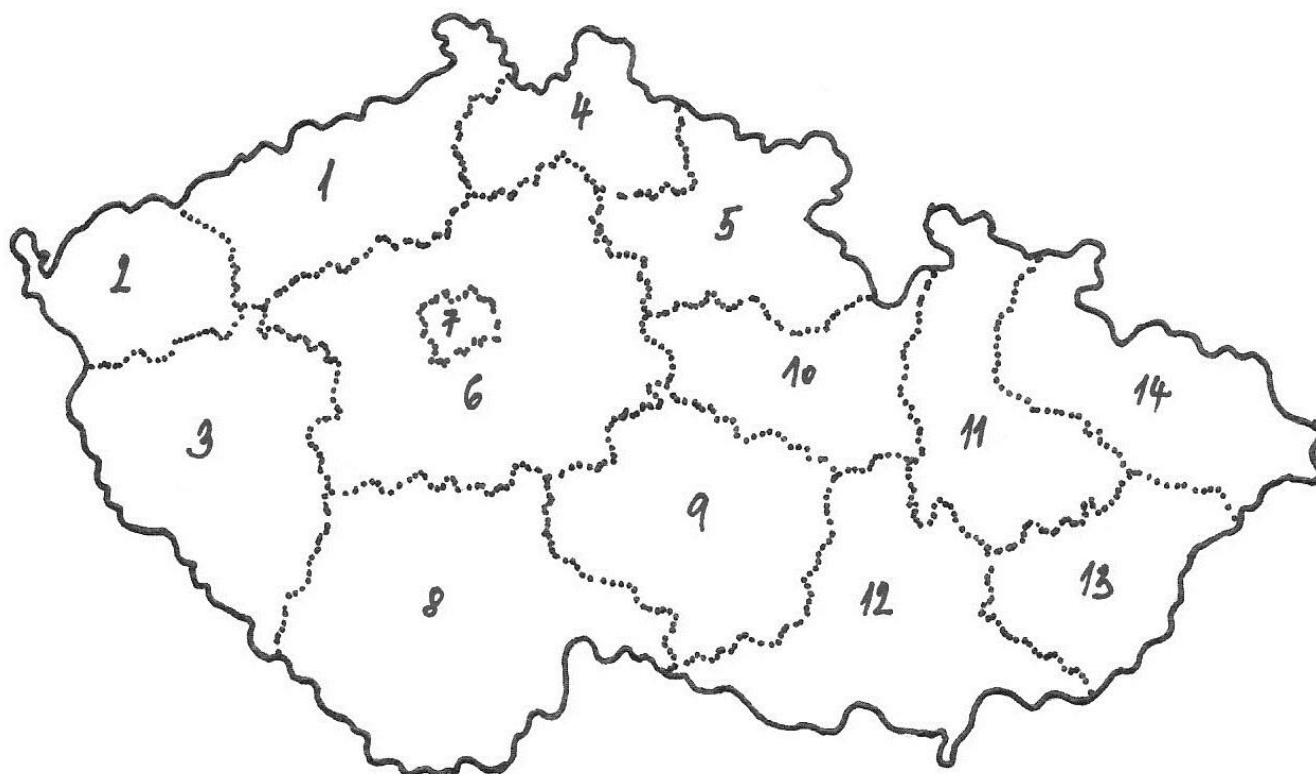
Nový začátek (New start) CZ.1.07/1.4.00/21.1409

Tento projekt je spolufinancován Evropským sociálním fondem a státním rozpočtem České republiky.

7. V ČR žije mnoho cizích státních příslušníků. Uveď alespoň dva:

např. Ukrajinci, Rusové, Vietnamci, Poláci

8. **A** Dopiš do mapy ČR čísla u názvů krajů.



1. Ústecký kraj
2. Karlovarský kraj
3. Plzeňský kraj
4. Liberecký kraj
5. Královéhradecký kraj
6. Středočeský kraj
7. Praha

8. Jihočeský kraj
9. Kraj Vysočina
10. Pardubický kraj
11. Olomoucký kraj
12. Jihomoravský kraj
13. Zlínský kraj
14. Moravskoslezský kraj

Autorem materiálu a všech jeho částí, není-li uvedeno jinak, jsou:

A. Strádalová, Mgr. D. Nováková.

Vytvořeno dne 4. 1. 2013.

Nový začátek (New start) CZ.1.07/1.4.00/21.1409

Tento projekt je spolufinancován Evropským sociálním fondem a státním rozpočtem České republiky.

B Dopln tabulku: k názvu kraje dopiš počet obyvatel a seřaď kraje podle početnosti obyvatel od největšího po nejmenší.

Název kraje	Počet obyvatel	Pořadí
Ústecký kraj	836 045	5.
Plzeňský kraj	572 045	9.
Karlovarský kraj	307 444	14.
Liberecký kraj	439 942	13.
Středočeský kraj	1 264 978	1.
Praha	1 246 780	2.
Jihočeský kraj	638 706	7.
Královéhradecký kraj	554 803	10.
Pardubický kraj	517 164	11.
Kraj Vysočina	514 569	12.
Jihomoravský kraj	1 154 654	4.
Olomoucký kraj	641 681	6.
Moravskoslezský kraj	1 243 220	3.
Zlínský kraj	590 361	8.

9. Zakroužkuj správnou odpověď:

Počet obyvatel v Praze:

☒ a. 1 246 780

b. 2 485 019

c. 999 823

Počet obyvatel v Kadani:

a. 100 238

☒ b. 18 062

c. 1 182 365

Autorem materiálu a všech jeho částí, není-li uvedeno jinak, jsou:

A. Strádalová, Mgr. D. Nováková.

Vytvořeno dne 4. 1. 2013.

Nový začátek (New start) CZ.1.07/1.4.00/21.1409

Tento projekt je spolufinancován Evropským sociálním fondem a státním rozpočtem České republiky.

10. Největší města ČR – seřaď města od největšího k nejmenšímu. Sudá čísla vybarvi modře a lichá zeleně.

Město	Počet obyvatel	Pořadí
Praha	1 246 780	1.
České Budějovice	93 883	9.
Pardubice	91 073	10.
Liberec	102 247	5.
Ostrava	302 456	3.
Olomouc	100 043	6.
Brno	384 277	2.
Ústí nad Labem	95 003	7.
Plzeň	169 688	4.
Hradec Králové	94 242	8.
Zlín	76 010	11.

11. Slož správně slova a dopiš.

Obyvatelé České republiky bydlí **EV CHETSĚM** ve městech
i **EV CHÍCINSEV** ve vesnicích. Vesnice se zakládaly především
tam, kde byla **ADŮP ÁNDORÚ** úrodná půda.
Ve městech v současné době žijí **ĚVD YNITEŘT** dvě třetiny
všech **LETAVYBO** obyvatel.

Autorem materiálu a všech jeho částí, není-li uvedeno jinak, jsou:

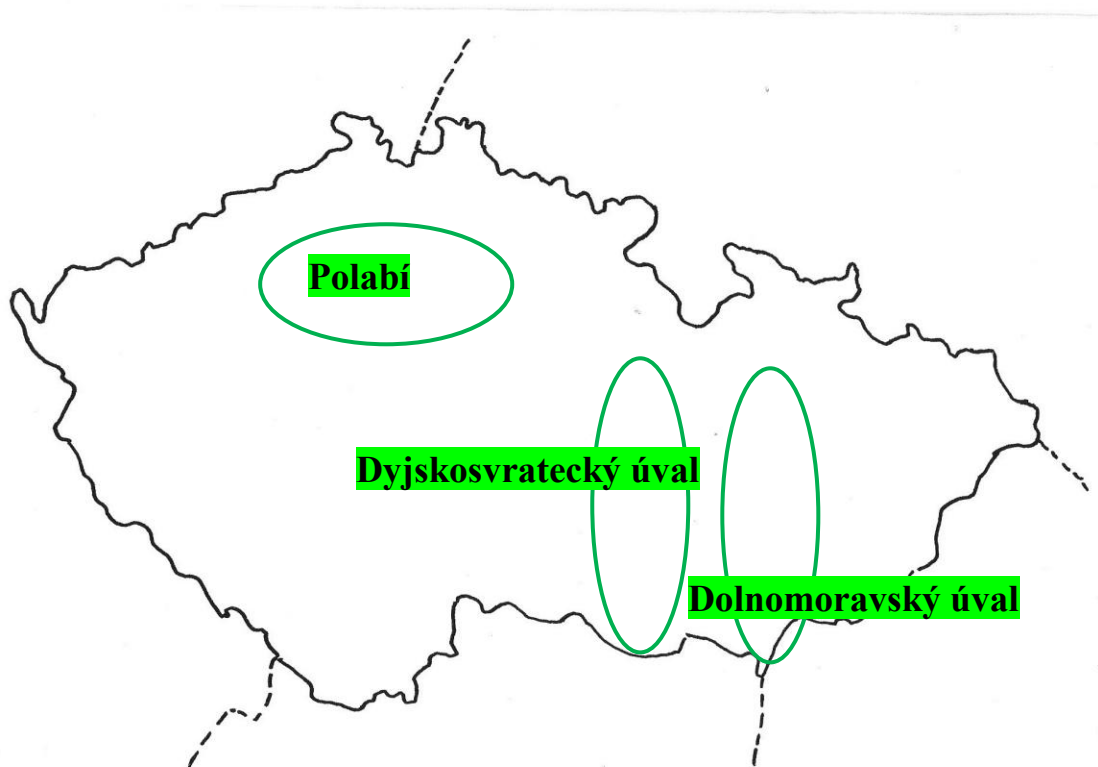
A. Strádalová, Mgr. D. Nováková.

Vytvořeno dne 4. 1. 2013.

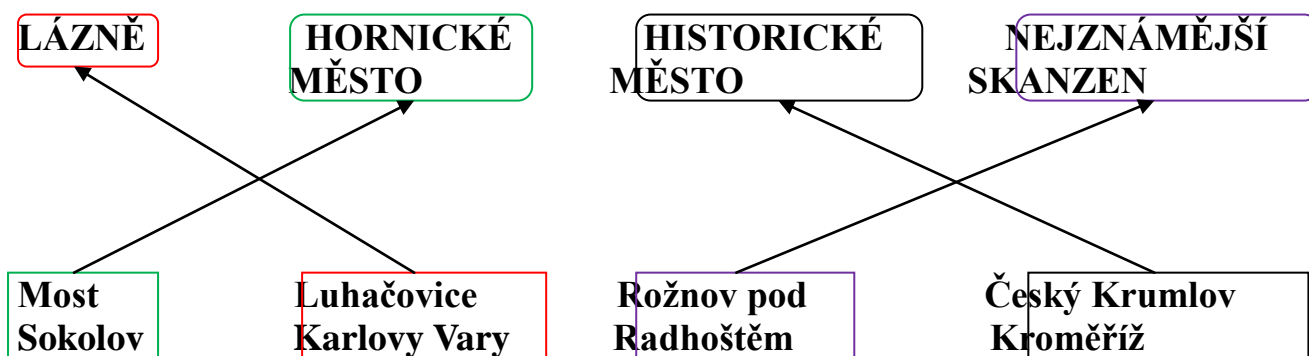
Nový začátek (New start) CZ.1.07/1.4.00/21.1409

Tento projekt je spolufinancován Evropským sociálním fondem a státním rozpočtem České republiky.

12. Do mapy zakresli zelenou pastelkou Moravské úvaly a Polabí. Tam nalezneme nejvíce vesnic.



13. Spoj, co k sobě patří.



Autorem materiálu a všech jeho částí, není-li uvedeno jinak, jsou:

A. Strádalová, Mgr. D. Nováková.

Vytvořeno dne 4. 1. 2013.

Nový začátek (New start) CZ.1.07/1.4.00/21.1409

Tento projekt je spolufinancován Evropským sociálním fondem a státním rozpočtem České republiky.

14. Vylušti tajenku v prvním sloupci. Zjistíš jméno řeky. Ukaž si ji na mapě.

1.	M	O	S	T
2.	O	D	R	A
3.	R	O	K	
4.	A	Š		
5.	V	L	A	K
6.	A	N	N	A

Umožňuje přejít řeku.

Řeka, která protéká Ostravou.

12 měsíců.

Město na západě Čech.

Dopravní prostředek.

Dívčí jméno.

Autorem materiálu a všech jeho částí, není-li uvedeno jinak, jsou:

A. Strádalová, Mgr. D. Nováková.

Vytvořeno dne 4. 1. 2013.

Nový začátek (New start) CZ.1.07/1.4.00/21.1409

Tento projekt je spolufinancován Evropským sociálním fondem a státním rozpočtem České republiky.