

INVESTICE DO ROZVOJE VZDĚLÁVÁNÍ

č. 1

název	Hranice státu ČR a Evropa
anotace	V pracovních listech žáci získávají základní znalosti o České republice. Testovou i zábavnou formou si ověřují znalosti na dané téma. Součástí pracovního listu je i správné řešení.
očekávaný výstup	ZV – LMP Člověk a příroda – 2. stupeň Z – určit zeměpisnou polohu a rozlohu České republiky a její sousední státy
druh učebního materiálu	Pracovní list
druh interaktivity	Aktivita
ročník	6.

Autorem materiálu a všech jeho částí, není-li uvedeno jinak, jsou:

A. Strádalová, Mgr. D. Nováková.

Vytvořeno dne 10. 9. 2012.

Nový začátek (New start) CZ.1.07/1.4.00/21.1409

Tento projekt je spolufinancován Evropským sociálním fondem a státním rozpočtem České republiky.

HRANICE STÁTU ČR A EVROPA – pracovní list

Jméno: _____

1. a) Červeně obtáhni hranice České republiky.
- b) Urči světové strany S, J, V, Z a zakresli je do mapy.



Autorem materiálu a všech jeho částí, není-li uvedeno jinak, jsou:

A. Strádalová, Mgr. D. Nováková.

Vytvořeno dne 10. 9. 2012.

Nový začátek (New start) CZ.1.07/1.4.00/21.1409

Tento projekt je spolufinancován Evropským sociálním fondem a státním rozpočtem České republiky.

2. Česká republika je _____.

Vylušti odpověď. Zakroužkuj každé třetí písmeno a dostaneš odpověď.

A B S F CH R I Z D S L C B U E
M K M Ž H E Ć T V P S R C E O
L Y P X N Y.

3. Vybarvi mapu ČR zelenou a hnědou pastelkou. Pracuj s atlasem.



Autorem materiálu a všech jeho částí, není-li uvedeno jinak, jsou:

A. Strádalová, Mgr. D. Nováková.

Vytvořeno dne 10. 9. 2012.

Nový začátek (New start) CZ.1.07/1.4.00/21.1409

Tento projekt je spolufinancován Evropským sociálním fondem a státním rozpočtem České republiky.

4. Doplň slova ze závorky.

Česká _____ se rozděluje do _____ oblastí. Na _____ se nachází _____, západní _____ tvoří _____. Tvar ČR je _____ ve směru od _____ k _____.

(protáhlý, republika, západu, dvou, východě, Čechy, východu, část, Morava)

5. Správně přiřaď – spoj čarou.

Česká republika je:	království
	náboženský stát
	demokratický stát
	teroristický stát

6. Zakroužkuj správnou odpověď.

Má Česká republika moře?	ANO	NE
--------------------------	-----	----

7. Napiš název hlavního města ČR a jméno prezidenta České republiky.

Hlavní město ČR je _____.

Prezident ČR se jmenuje _____.

Autorem materiálu a všech jeho částí, není-li uvedeno jinak, jsou:

A. Strádalová, Mgr. D. Nováková.

Vytvořeno dne 10. 9. 2012.

Nový začátek (New start) CZ.1.07/1.4.00/21.1409

Tento projekt je spolufinancován Evropským sociálním fondem a státním rozpočtem České republiky.

8. Červenou pastelkou obtáhni nejdelší hranici a tento stát pojmenuj. Pracuj s atlasem.



Autorem materiálu a všech jeho částí, není-li uvedeno jinak, jsou:

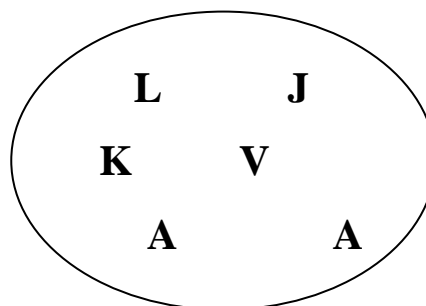
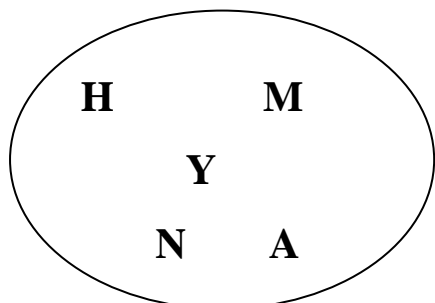
A. Strádalová, Mgr. D. Nováková.

Vytvořeno dne 10. 9. 2012.

Nový začátek (New start) CZ.1.07/1.4.00/21.1409

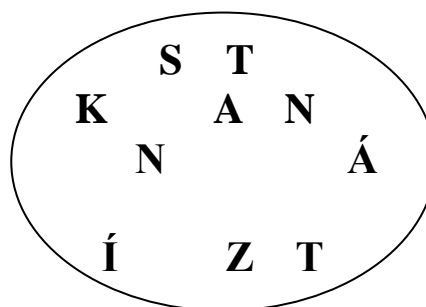
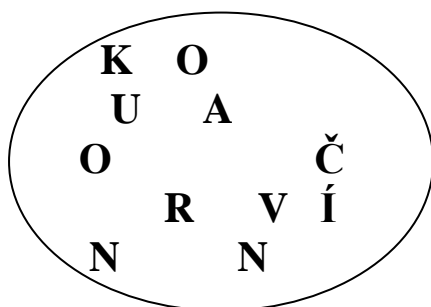
Tento projekt je spolufinancován Evropským sociálním fondem a státním rozpočtem České republiky.

9. Seřaď správně popletená písmena a napiš slova správně na linku. Dostaneš tak názvy 4 symbolů ČR.



státní _____

státní _____



_____ klenoty

Autorem materiálu a všech jeho částí, není-li uvedeno jinak, jsou:

A. Strádalová, Mgr. D. Nováková.

Vytvořeno dne 10. 9. 2012.

Nový začátek (New start) CZ.1.07/1.4.00/21.1409

Tento projekt je spolufinancován Evropským sociálním fondem a státním rozpočtem České republiky.

HRANICE STÁTU ČR A EVROPA – řešení

1. a) Červeně obtáhni hranice České republiky.
- b) Urči světové strany S, J, V, Z a zakresli je do mapy.



Autorem materiálu a všech jeho částí, není-li uvedeno jinak, jsou:

A. Strádalová, Mgr. D. Nováková.

Vytvořeno dne 10. 9. 2012.

Nový začátek (New start) CZ.1.07/1.4.00/21.1409

Tento projekt je spolufinancován Evropským sociálním fondem a státním rozpočtem České republiky.

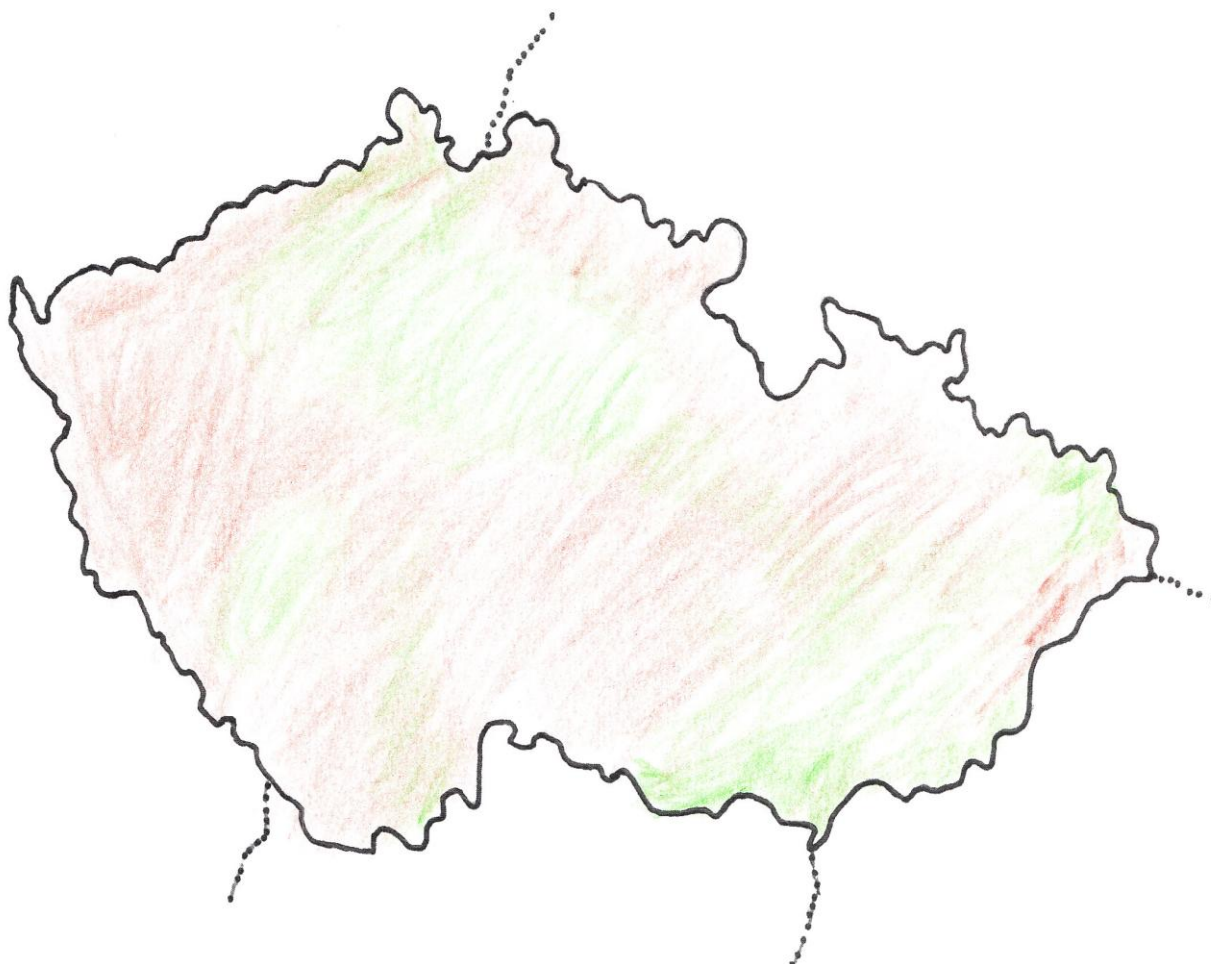
2. Česká republika je srdcem Evropy.

Vylušti odpověď. Zakroužkuj každé třetí písmeno a dostaneš odpověď.

A B **(S)** F CH **(R)** I Z **(D)** S L **(C)** B U **(E)**
M K **(M)** Ž H **(E)** Č T **(V)** P S **(R)** C E **(O)**
L Y **(P)** X N **(Y)**

3. Vybarvi mapu ČR zelenou a hnědou pastelkou. Pracuj s atlasem.

Samostatná práce žáků



Autorem materiálu a všech jeho částí, není-li uvedeno jinak, jsou:

A. Strádalová, Mgr. D. Nováková.

Vytvořeno dne 10. 9. 2012.

Nový začátek (New start) CZ.1.07/1.4.00/21.1409

Tento projekt je spolufinancován Evropským sociálním fondem a státním rozpočtem České republiky.

4. Doplň slova ze závorky.

Česká republika se rozděluje do dvou oblastí. Na východě se nachází Morava, západní část tvoří Čechy. Tvar ČR je protáhlý ve směru od západu k východu.

(protáhlý, republika, západu, dvou, východě, Čechy, východu, část, Morava)

5. Správně přiřaď – spoj čarou.

Česká republika je:

- království
- náboženský stát
- demokratický stát**
- teroristický stát

6. Zakroužkuj správnou odpověď.

Má Česká republika moře?

ANO

NE

7. Napiš název hlavního města ČR a jméno prezidenta České republiky.

Hlavní město ČR je Praha.

Prezident ČR se jmenuje Václav Klaus do roku 2013.

Autorem materiálu a všech jeho částí, není-li uvedeno jinak, jsou:

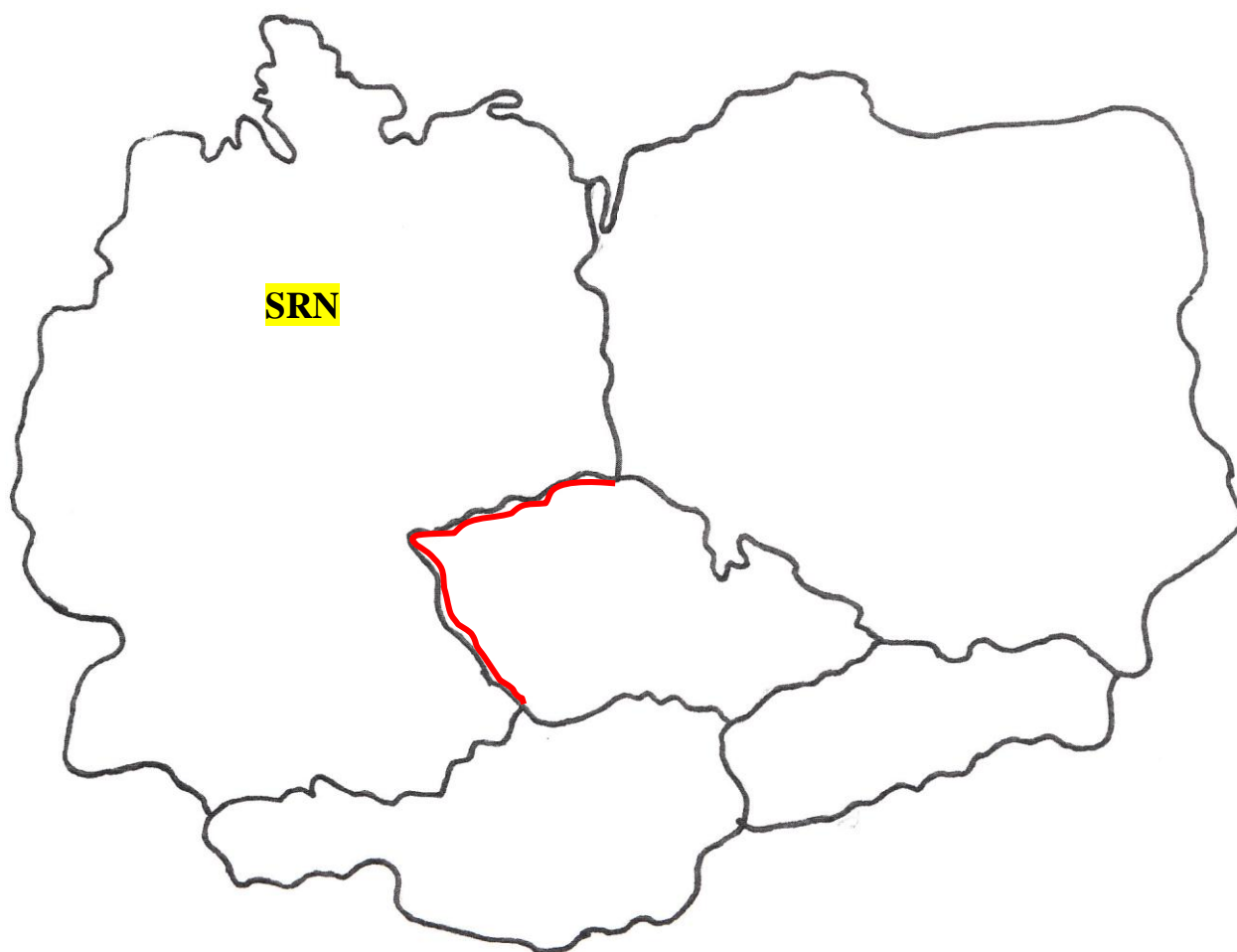
A. Strádalová, Mgr. D. Nováková.

Vytvořeno dne 10. 9. 2012.

Nový začátek (New start) CZ.1.07/1.4.00/21.1409

Tento projekt je spolufinancován Evropským sociálním fondem a státním rozpočtem České republiky.

8. Červenou pastelkou obtáhni nejdelší hranici a tento stát pojmenuj. Pracuj s atlasem.



Autorem materiálu a všech jeho částí, není-li uvedeno jinak, jsou:

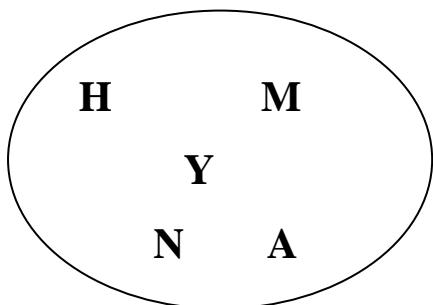
A. Strádalová, Mgr. D. Nováková.

Vytvořeno dne 10. 9. 2012.

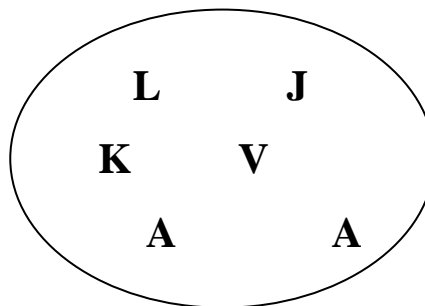
Nový začátek (New start) CZ.1.07/1.4.00/21.1409

Tento projekt je spolufinancován Evropským sociálním fondem a státním rozpočtem České republiky.

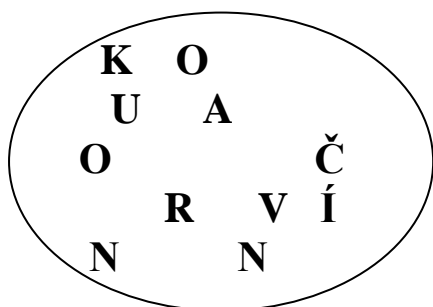
9. Seřad' správně popletená písmena a napiš slova správně na linku. Dostaneš tak názvy 4 symbolů ČR.



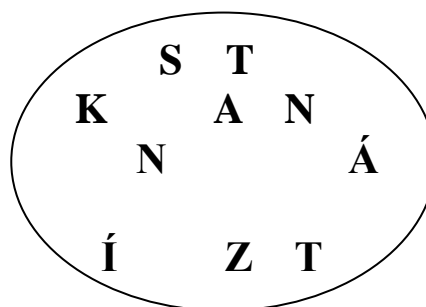
státní **hymna** _____



státní **vlajka** _____



korunovační _____ klenoty



státní znak _____

Autorem materiálu a všech jeho částí, není-li uvedeno jinak, jsou:

A. Strádalová, Mgr. D. Nováková.

Vytvořeno dne 10. 9. 2012.

Nový začátek (New start) CZ.1.07/1.4.00/21.1409

Tento projekt je spolufinancován Evropským sociálním fondem a státním rozpočtem České republiky.