

č. 19

název	Vladislav Jagellonský, Ludvík Jagellonský
anotace	Pracovní list rozlišuje časovou dobu vlády Lucemburků a Jagellonců, doplňuje učivo o počátku vlády Jagellonců . Testovou i zábavnou formou si žáci prohlubují znalosti o českých panovnících Vladislavu a Ludvíku Jagellonském. Součástí pracovního listu je i správné řešení.
očekávaný výstup	ZV – LMP Člověk a společnost – 2. stupeň D – rozmach českého státu za vlády Přemyslovců a Lucemburků
druh učebního materiálu	Pracovní list
druh interaktivity	Aktivita
ročník	7.

Autorem materiálu a všech jeho částí, není-li uvedeno jinak, jsou:

A. Strádalová, Mgr. D. Nováková, M. Metlický.

Vytvořeno dne 12. 4. 2011.

Nový začátek (New start) CZ.1.07/1.4.00/21.1409

Tento projekt je spolufinancován Evropským sociálním fondem a státním rozpočtem České republiky.

Vladislav Jagellonský, Ludvík Jagellonský – pracovní list

Jméno: _____

1. Vladislav Jagellonský byl syn (podtrhni správnou odpověď).

- a) polského krále
- b) německého císaře
- c) českého krále

2. Vladislav Jagellonský se narodil roku 1456. Roku 1471 byl zvolen českým králem. Zemřel po 45 letech vládnutí.

Spočítej:

a) Kolik bylo Vladislavu Jagellonskému, když se ujal vlády?

Bylo mu _____ let.

b) V kolika letech umírá?

Umírá v _____ letech.

c) Jak dlouho vládl jako král?

Vládl _____ let.

3. V době vlády Jagellonců došlo k rozvoji (správnou odpověď podtrhni).

- a) sportu
- b) kultury (stavitelství)
- c) zdravotnictví

Autorem materiálu a všech jeho částí, není-li uvedeno jinak, jsou:

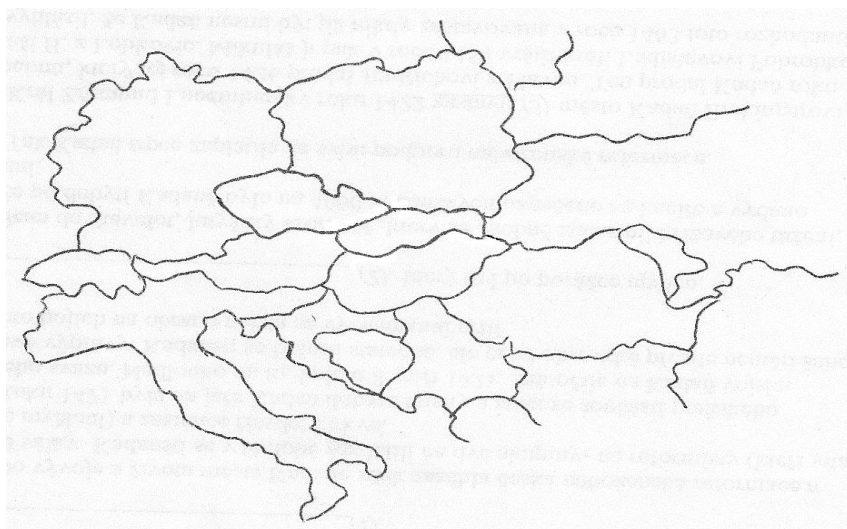
A. Strádalová, Mgr. D. Nováková, M. Metlický.

Vytvořeno dne 12. 4. 2011.

Nový začátek (New start) CZ.1.07/1.4.00/21.1409

Tento projekt je spolufinancován Evropským sociálním fondem a státním rozpočtem České republiky.

4. Vyznač na mapě území, kde vládl Vladislav Jagellonský (vládl v Čechách).



5. Ne všichni obyvatelé Českého království se mohli účastnit zemského sněmu. Spoj se zemským sněmem ty skupiny obyvatel, jejichž zástupce bys za vlády Jagellonců na sněmu našel.

KRÁL

NIŽŠÍ ŠLECHTA

VYŠŠÍ ŠLECHTA

ZEMSKÝ SNĚM

PODANÍ

ŘEMESLNÍCI

SVOBODNÍ
SEDLÁCI

MĚSTA

Autorem materiálu a všech jeho částí, není-li uvedeno jinak, jsou:

A. Strádalová, Mgr. D. Nováková, M. Metlický.

Vytvořeno dne 12. 4. 2011.

Nový začátek (New start) CZ.1.07/1.4.00/21.1409

Tento projekt je spolufinancován Evropským sociálním fondem a státním rozpočtem České republiky.

6. Do vět správně doplň uvedené výrazy – Jagellonský, Svatováclavskou, hospodařit, zemském, šlechta, měst, sporu, právo.

Po smrti Vladislava se vlády ujal jeho syn Ludvík_____.

Došlo k dohodě v dlouhodobém _____ panstva a _____.

Jde o _____ smlouvu z roku 1517. Města
získala _____ hlasovat na _____ sněmu.
_____ mohla na svých panstvích _____ a podnikat.

7. Roku _____ umírá Ludvík Jagellonský v bitvě u Moháče a
to znamená konec vlády Jagellonců na českém trůně.

Doplň správně čísla a dovíš se, kterého roku umřel Ludvík Jagellonský.

K	H	S	O	A	M	J	R
3	5	7	2	1	8	6	9

A	H	O	J

Autorem materiálu a všech jeho částí, není-li uvedeno jinak, jsou:

A. Strádalová, Mgr. D. Nováková, M. Metlický.

Vytvořeno dne 12. 4. 2011.

Nový začátek (New start) CZ.1.07/1.4.00/21.1409


Tento projekt je spolufinancován Evropským sociálním fondem a státním rozpočtem České republiky.

8. V době vlády Jagellonců chodili lidé různě oblečení podle svého postavení ve společnosti. Přiřaď čísla k obrázkům a obrázek vybarvi.

1. venkované

2. šlechta

3. zamožní měšťané



Autorem materiálu a všech jeho částí, není-li uvedeno jinak, jsou:

A. Strádalová, Mgr. D. Nováková, M. Metlický.

Vytvořeno dne 12. 4. 2011.

Nový začátek (New start) CZ.1.07/1.4.00/21.1409

Tento projekt je spolufinancován Evropským sociálním fondem a státním rozpočtem České republiky.

Vladislav Jagellonský, Ludvík Jagellonský – řešení

1. Vladislav Jagellonský byl syn (podtrhni správnou odpověď).

- d) polského krále**
- e) německého císaře
- f) českého krále

2. Vladislav Jagellonský se narodil roku 1456. Roku 1471 byl zvolen českým králem. Zemřel po 45 letech vládnutí.

Spočítej:

a) Kolik bylo Vladislavu Jagellonskému, když se ujal vlády?

Bylo mu 15 let.

b) V kolika letech umírá?

Umírá v 60 letech.

c) Jak dlouho vládl jako král?

Vládl 45 let.

3. V době vlády Jagellonců došlo k rozvoji (správnou odpověď podtrhni).

- a) sportu
- b) kultury (stavitelství)**
- c) zdravotnictví

Autorem materiálu a všech jeho částí, není-li uvedeno jinak, jsou:

A. Strádalová, Mgr. D. Nováková, M. Metlický.

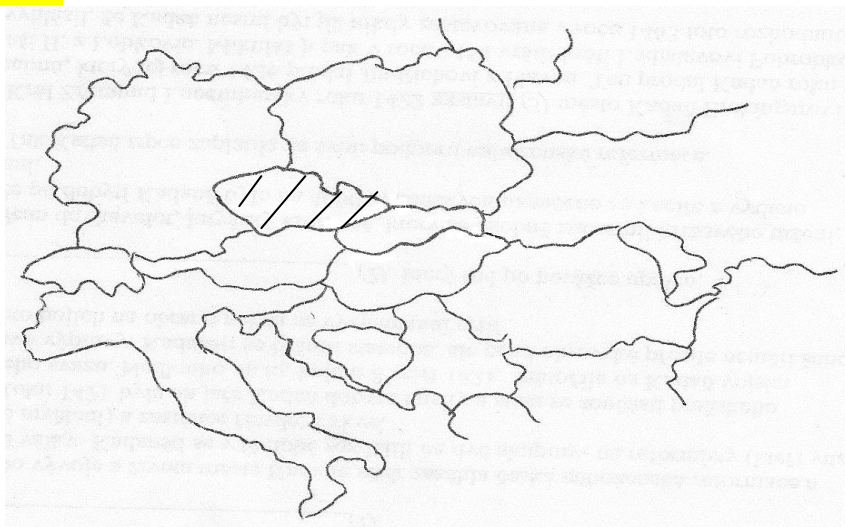
Vytvořeno dne 12. 4. 2011.

Nový začátek (New start) CZ.1.07/1.4.00/21.1409

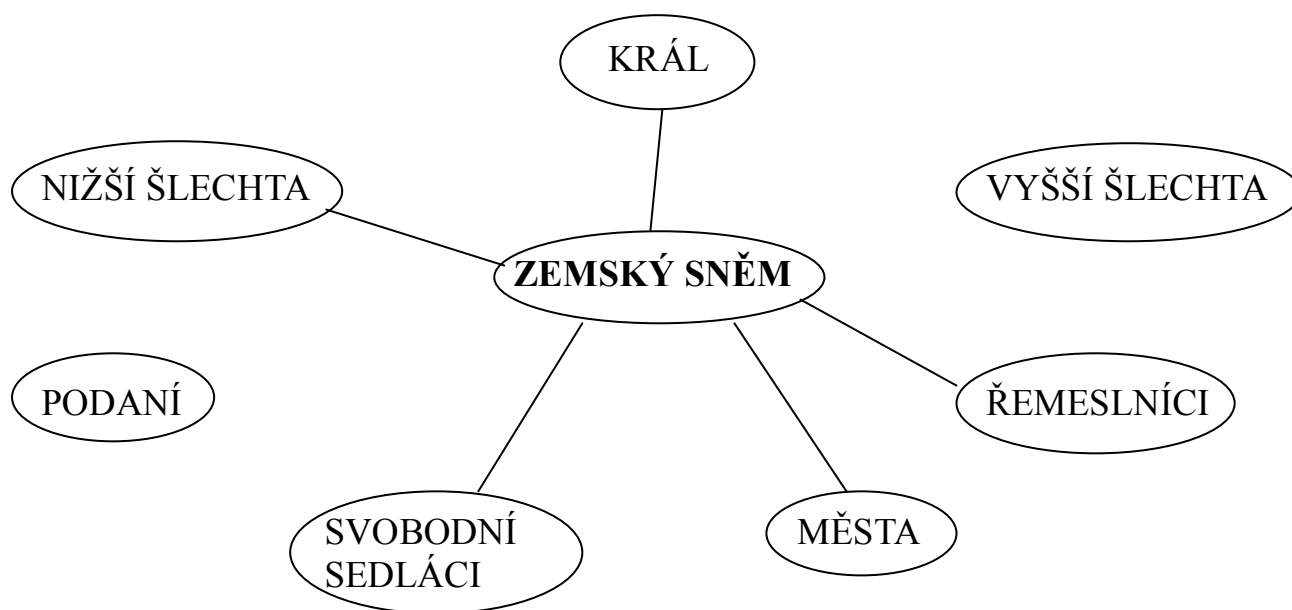
Tento projekt je spolufinancován Evropským sociálním fondem a státním rozpočtem České republiky.

4. Vyznač na mapě území, kde vládl Vladislav Jagellonský (vládl v Čechách).

Samostatná práce žáků



5. Ne všichni obyvatelé Českého království se mohli účastnit zemského sněmu. Spoj se zemským sněmem ty skupiny obyvatel, jejichž zástupce bys za vlády Jagellonců na sněmu našel.



Autorem materiálu a všech jeho částí, není-li uvedeno jinak, jsou:

A. Strádalová, Mgr. D. Nováková, M. Metlický.

Vytvořeno dne 12. 4. 2011.

Nový začátek (New start) CZ.1.07/1.4.00/21.1409

Tento projekt je spolufinancován Evropským sociálním fondem a státním rozpočtem České republiky.

6. Do vět správně doplň uvedené výrazy – Jagellonský, Svatováclavskou, hospodařit, zemském, šlechta, měst, sporu, právo.

Po smrti Vladislava se vlády ujal jeho syn Ludvík Jagellonský.

Došlo k dohodě v dlouhodobém sporu panstva a měst.

Jde o Svatováclavskou smlouvu z roku 1517. Města

získala právo hlasovat na zemském sněmu.

Šlechta mohla na svých panstvích hospodařit a podnikat.

7. Roku 1526 umírá Ludvík Jagellonský v bitvě u Moháče a to znamená konec vlády Jagellonců na českém trůně.

Doplň správně čísla a doviš se, kterého roku umřel Ludvík Jagellonský.

K	H	S	O	A	M	J	R
3	5	7	2	1	8	6	9

A	H	O	J
1	5	2	6

Autorem materiálu a všech jeho částí, není-li uvedeno jinak, jsou:

A. Strádalová, Mgr. D. Nováková, M. Metlický.

Vytvořeno dne 12. 4. 2011.

Nový začátek (New start) CZ.1.07/1.4.00/21.1409

Tento projekt je spolufinancován Evropským sociálním fondem a státním rozpočtem České republiky.


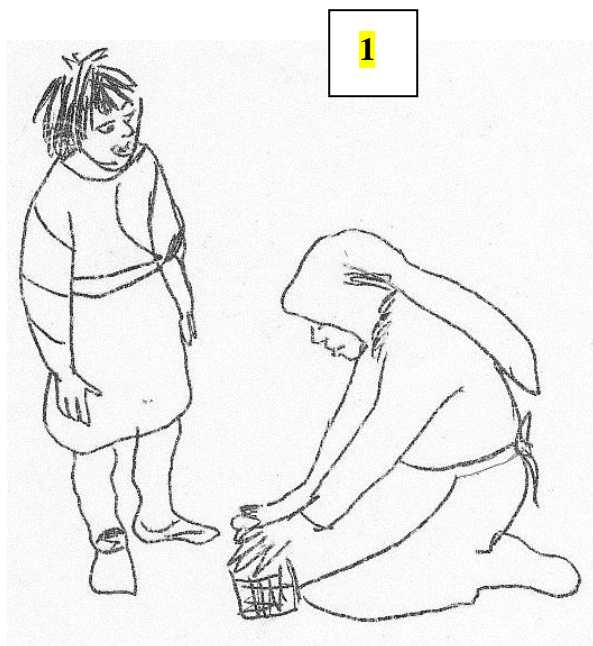
8. V době vlády Jagellonců chodili lidé různě oblečení podle svého postavení ve společnosti. Přiřaď čísla k obrázkům a obrázek vybarvi.

1. venkované

samostatná práce žáků

2. šlechta

3. zamožní měšťané



Autorem materiálu a všech jeho částí, není-li uvedeno jinak, jsou:

A. Strádalová, Mgr. D. Nováková, M. Metlický.

Vytvořeno dne 12. 4. 2011.

Nový začátek (New start) CZ.1.07/1.4.00/21.1409

Tento projekt je spolufinancován Evropským sociálním fondem a státním rozpočtem České republiky.